



EXAMEN PARCIAL DE FUNDAMENTOS DE COMPUTADORES
CURSO 2015-16, PRIMER PARCIAL (CONV. DE SEPTIEMBRE), 12 DE SEPTIEMBRE 2016

1. (1 punto) Dados los siguientes números: $A = +(50)_{10}$, $B = +(57)_8$, $C = +(4E)_{16}$ y $D = -(10100)_2$
- (0,5 puntos) Expréselos en representación en complemento a 2 con 8 bits.
 - (0,5 puntos) Efectúe las operaciones $(A-B)$ y $(C+D)$ indicando en cada caso si hay desbordamiento y/o acarreo y el por qué.

2. (2,5 puntos) Sea un sistema combinacional que tiene una entrada de 3 bits (\underline{X}), una entrada de 1 bit ($C2$), una salida de 3 bits (\underline{Z}) y una salida de 1 bit (E). La señal $C2$ indica el tipo de datos con los que opera el circuito:
- Si $C2=0$, los valores de \underline{X} y \underline{Z} representan números enteros sin signo codificados en binario.
 - Si $C2=1$, los valores de \underline{X} y \underline{Z} representan números enteros con signo codificados en complemento a 2.

En ambos casos el sistema debe realizar la siguiente operación:

- Si $\underline{X} \leq 3$ entonces $\underline{Z} = 2 \cdot \underline{X}$
- Si $\underline{X} > 3$ entonces $\underline{Z} = \underline{X}/2$ (división entera)

Si el resultado de la operación es representable con 3 bits en la codificación correspondiente, E valdrá '0' y \underline{Z} tomará el valor de la operación. En caso contrario, E valdrá '1' y el valor que tome \underline{Z} será irrelevante. Se pide:

- (1 punto) Obtener la tabla de verdad del sistema.
 - (1,5 puntos) Implementar el sistema utilizando el menor número de puertas NAND.
3. (1 punto) Usando registros de 4 bits y las puertas que considere necesarias, diseñe un sistema secuencial con una entrada de 4 bits (\underline{X}) por la que en cada ciclo de reloj recibe un dígito codificado en BCD y 3 salidas de 1 bit (C , N y M) tales que:
- C vale 1, si los 3 últimos dígitos recibidos forman un número capicúa.
 - N vale 1, si los 3 últimos dígitos recibidos (suponiendo que se reciben comenzando por el dígito más significativo) forman un número mayor que 99.
 - M vale 1, si los 3 últimos dígitos recibidos (suponiendo que se reciben comenzando por el dígito más significativo) forman un número múltiplo de 5.

4. (3 puntos) Diseñar un generador de patrones con una entrada binaria, X , y una salida $Z \in \{a, b\}$ que se comporte de la siguiente manera:
- Si $X = 0$, la salida generará repetidamente la secuencia "baab"
 - Si $X = 1$, la salida generará repetidamente la secuencia "abbb"

El sistema generará patrones completos (véase la figura), de manera que sólo se tendrá en cuenta el valor de la entrada cuando finaliza la generación de un patrón, es decir, en su último carácter. Inicialmente el sistema generará la secuencia "baab".

$X(t)$	0	0	0	0	0	0	1	1	1	1	1	1	1	0	0	0
$Z(t)$	b	a	a	b	b	a	a	b	a	b	b	b	a	b	b	b
	Secuencia "baab"				Secuencia "baab"				Secuencia "abbb"				Secuencia "abbb"			

Se pide:

- (1 punto) Especificar el sistema mediante un diagrama de estados de tipo Moore.
- (2 puntos) Implementar el sistema con un contador binario módulo 8 y puertas lógicas.

5. (2,5 puntos) HDLC es un protocolo de comunicaciones que transmite los datos agrupados en tramas. Cada trama está delimitada en sus extremos inicial y final por la combinación de bits "01111110". El problema de este protocolo es que entre los datos que envía el emisor puede aparecer casualmente esa combinación y el receptor podría creer erróneamente que le ha llegado el fin de la trama. Por este motivo, el emisor cuando envía los datos en serie inserta un 0 siempre después de cinco 1 seguidos. Usando biestables D y una ROM, diseñe un sistema secuencial de tipo Mealy que, recibiendo en serie los datos de la trama a transmitir, indique cuándo debe introducirse un 0.



UNIVERSIDAD COMPLUTENSE
MADRID

Ejercicios del ALUMNO

APELLIDOS		
NOMBRE		D.N.I. n.º
ASIGNATURA		GRUPO
CURSO	N.º DE MATRICULA	FECHA

① $A = +50_{10}$

$B = +57_8$

$C = +4E_{16}$

$D = -(10100)_2$

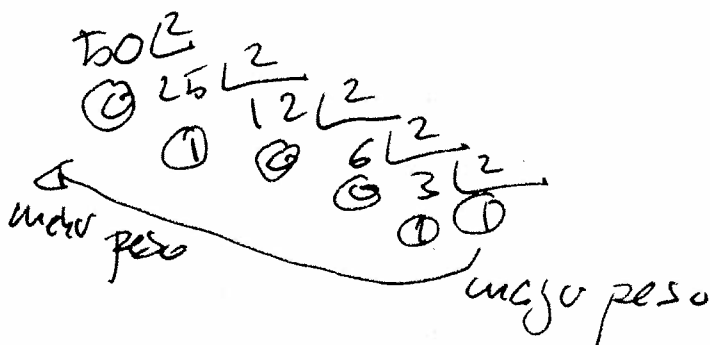
Expresarlos en C2 con 8 bits.

Todos los n.º están representados en magnitud y signo. Expresando el signo mediante el símbolo clásico (+/-) y la magnitud expresada en diferentes representaciones (decimal, octal, hexadecimal, binario)

⊗ $A = +50_{10}$

1º paso → calcular la magnitud en binario puro.

$|+50_{10}| = 50_{10} \rightarrow$ división recursiva por la base



1100010_2

Recordo q. la magnitud no tiene signo y q. al copiar la división por la base el bit más significativo siempre es 1 PERO este 1 no significa signo, es parte de la magnitud
 2º paso añadir signo positivo (0) por convertirlo en C_2

$$0110050_{C_2, MS, C_1} = +150_{10}$$

Recordo q. las representaciones positivas de C_2, C_8 y H_8 coinciden

la representación obtenida utilizando 2 bit y el número pide 8 \Rightarrow copiar la extensión de signo. q. en C_2 es copiar el bit de signo tantas veces como sea necesario.

$$\boxed{00110050_{C_2} = A}$$

$$\textcircled{+} B = +(157)_8$$

1º paso calcular la magnitud en binario pro.

$$|(157)_8| = 157_{10}$$

cada dígito octal se sustituye por su representación binaria con 3 bits:

$$101111_2$$

2º se le añade el bit de signo positivo

$$0101111_{C_2, C_8, MS} = +157_8$$

como se pide q. se represente con 8 bits
se aplica la operacion extencion de signo

(3)

$$|B = 00101111_2|$$

$$B = +4E_{16}$$

1º paso - se calcula la magnitud en bp.

$$|4E_{16}| = 4E_{16}$$

se sustituye cada dígito hexadecimal por su representación binaria de 4 bits

$$01001110_{bp}$$

2º se le añade el bit de signo positivo.
En este caso no hace falta añadirle el bit de signo positivo puesto q. la representación binaria empieza por cero y sabemos q. ese cero no tiene ningún valor:

$$01001110_{bp} = 1001110_{bp}$$

En este caso no hace falta aplicar la op. extencion de signo puesto q. esta representación ya tiene 8 bits

$D = -(10100)_2$

1º paso calculo de la magnitud en binario pos

$|-(10100)_2| = 10100_{bp}$

2º paso añadir el signo positivo para representarlo en C2

~~010100~~ 010100_{C2}

3º paso, como el nº inicial es negativo, hay q. aplicar la operación cambio de signo.

$$\begin{array}{r}
 010100_{C2} \longrightarrow 101011 \\
 \hline
 101100_{C2}
 \end{array}$$

101100_{C2}

4º paso como la representación solo tiene 6 bits hay q. aplicar la operación extensión de signo de complemento a dos q. consiste en repetir el bit de signo tantas veces como sea necesario

$11101100_{C2} = D$

46

A-B y C4D

• A-B → NUNCA realizamos restas en C₂ directamente. lo q. convertir la resta en una suma

A-B = A + (-B)

A lo conocemos = 00110010_{C2}

B lo conocemos = 00101111_{C2}

PERO -B NO lo conocemos, te he las q. calculo aplicando la op. cambio de signo en C₂

$$\begin{array}{r}
 B = 00101111 \longrightarrow 11010000 \\
 \hline
 11010001
 \end{array}$$

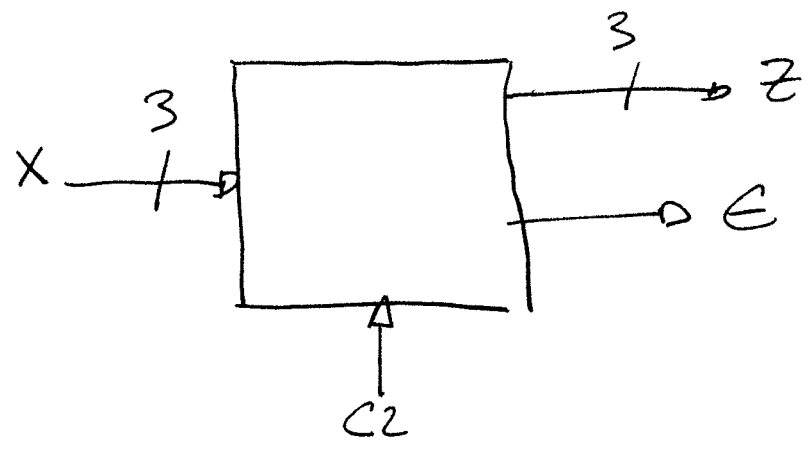
$$\begin{array}{r}
 A + (-B) = \begin{array}{r} 00110010 \\ 11010001 \\ \hline 10000011 \end{array}
 \end{array}$$

Existe acarreo prestado q. el resultado tiene un bit mas q. los operandos
NO existe desbordamiento, la suma de un n^o positivo y uno negativo si puede dar un n^o positivo

114 C+D

$$\begin{array}{r}
 C = 01001110 \\
 D = 11101100 \\
 \hline
 100111010
 \end{array}$$

12



Si $c_2 = \phi \Rightarrow x, z$ enteros sin signo codificados en binario

Si $c_2 = 1 \Rightarrow x, z$ enteros con signo en C^2

Si $x \leq 3 \rightarrow z = 2 \cdot x$

Si $x > 3 \rightarrow z = x/2$

respuesta \rightarrow si $c_2 = \phi$ se pueden representar los complementados entre ϕ y z

x	z
0	0
1	2
2	4
3	6
4	8
5	10
6	12
7	14

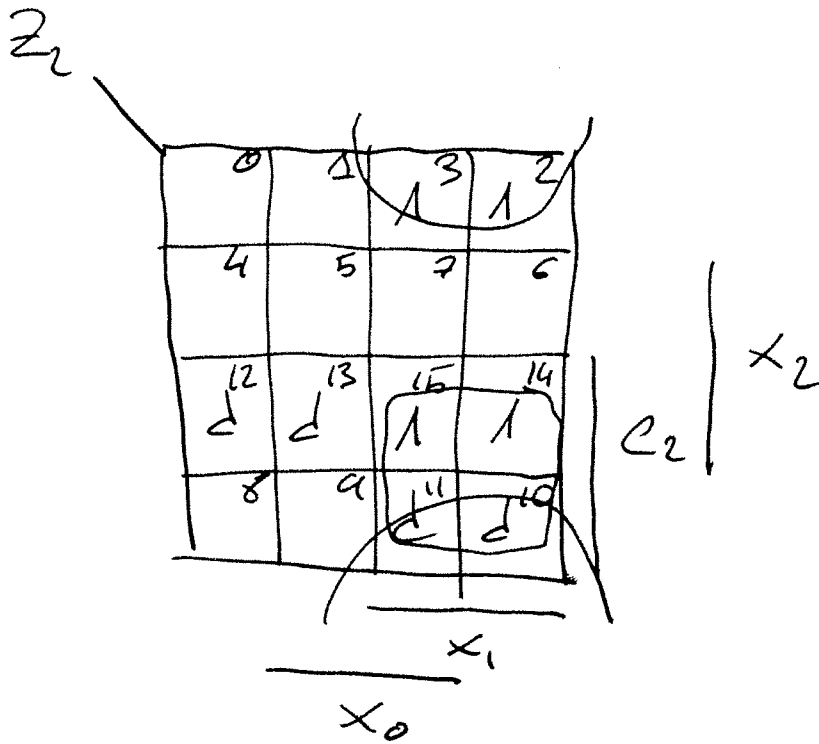
Si $CL=1$ se representan n.ºs complementados entre $(-4, +3)$ (7)

X	Z
0	0
1	2
2	4 → no representable
3	6 → no representable
-4	-4 → no representable
-3	-6 → no representable
-2	-4
-1	-2


Z_2	X_2	X_1	X_0	Z_2	Z_1	Z_0	\bar{E}
0	0	0	0	0	0	0	0
0	0	0	1	0	1	0	0
0	0	1	0	1	0	0	0
0	0	1	1	1	1	0	0
0	1	0	0	0	1	0	0
0	1	0	1	0	1	0	0
0	1	1	0	0	1	1	0
0	1	1	1	0	1	1	0
1	0	0	0	0	0	0	0
1	0	0	1	0	1	0	0
1	0	1	0	d	d	d	1
1	0	1	1	d	d	d	1
1	1	0	0	d	d	d	1
1	1	0	1	d	d	d	1
1	1	1	0	1	0	0	0
1	1	1	1	1	1	0	0

como el enunciado indica q. se utilizan puertas NAND (el mejor n.º posible) mas q. aplicar los mapas de K.

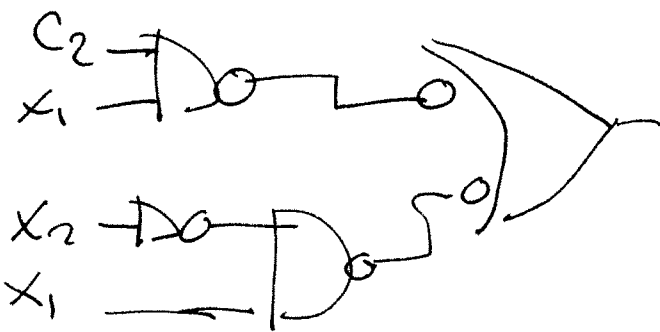
siguiente vez a hacer 2 ejemplos, por Z_2 y \bar{E}



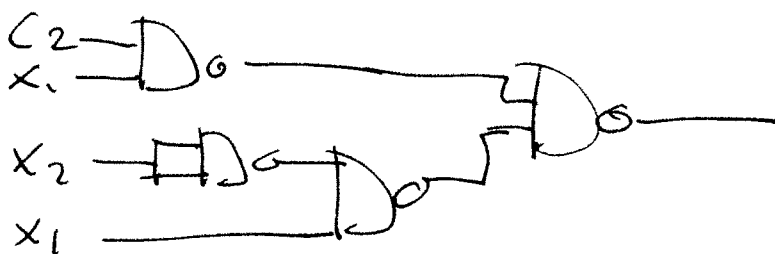
$$z_1 = C_2 x_1 + \bar{x}_2 x_1$$



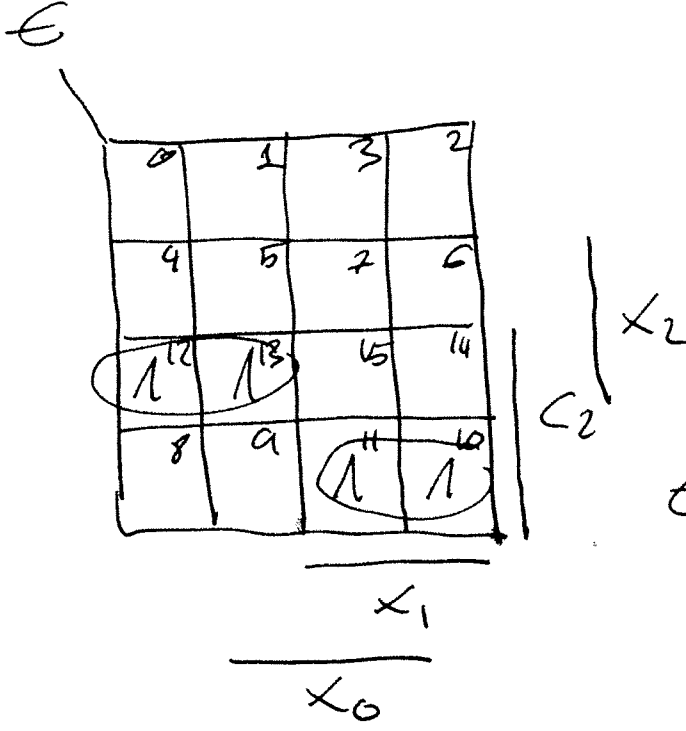
poniendo doble
línea a las
salidas de las and
y/o a las entradas
de las or



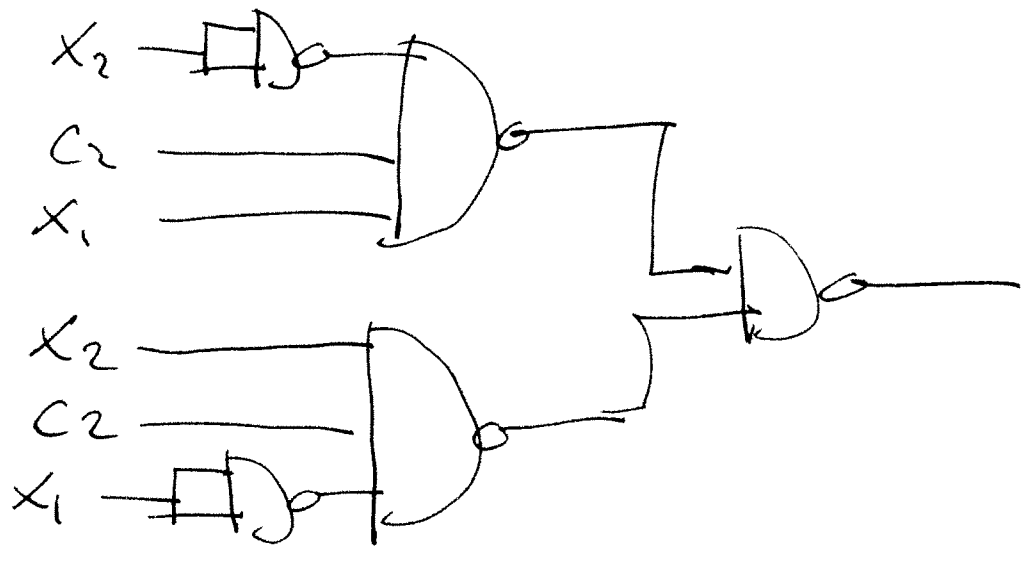
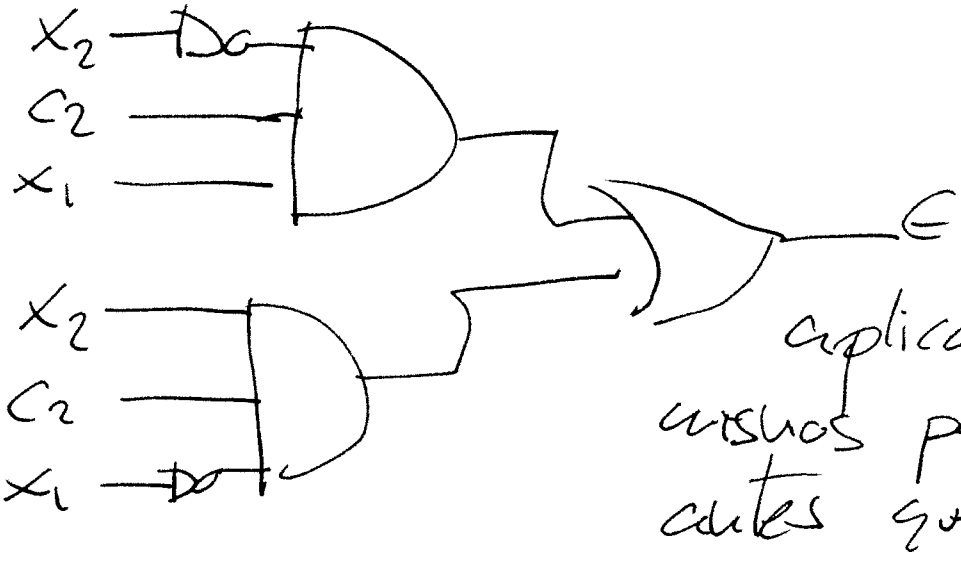
sustituyendo $\bar{0}$
por su otra representación
Da y
cambiando el divisor
por su representación
usual ($\bar{1} \equiv$
 $\bar{1} \equiv$)



$\bar{1} \equiv$
 $\bar{1} \equiv$



$$E = \overline{x_2} C_2 x_1 + x_2 C_2 \overline{x_1}$$



(3)

codificación BCD \Rightarrow cada dígito representado por 4 bits

	BCD
0	0000
1	0001
2	0010
3	0011
4	0100
5	0101
6	0110
7	0111
8	1000
9	1001

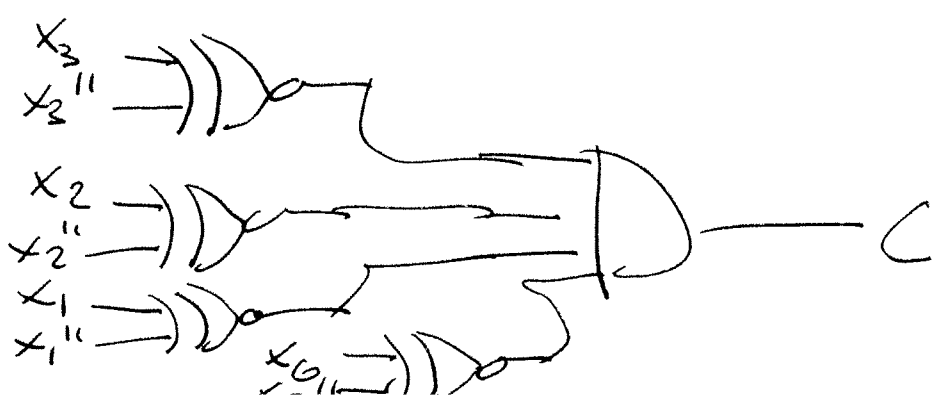
Vamos a ver las condiciones que se tienen que cumplir

$C = 1 \Rightarrow$ si los 3 últimos nos funcionan no se capicúa \Rightarrow primer no y último no iguales

\Rightarrow cada uno de los bits del no BCD tienen que ser iguales. Siendo x un bit del primer dígito BCD y x'' un bit del tercer dígito BCD, ahora s. cumplir

x	x''	iguales
0	0	1
0	1	0
1	0	0
1	1	1

\Rightarrow Parity XNOR. como tienen s. ser iguales los 4 bits de los 2 dígitos BCD




mayor de 99.

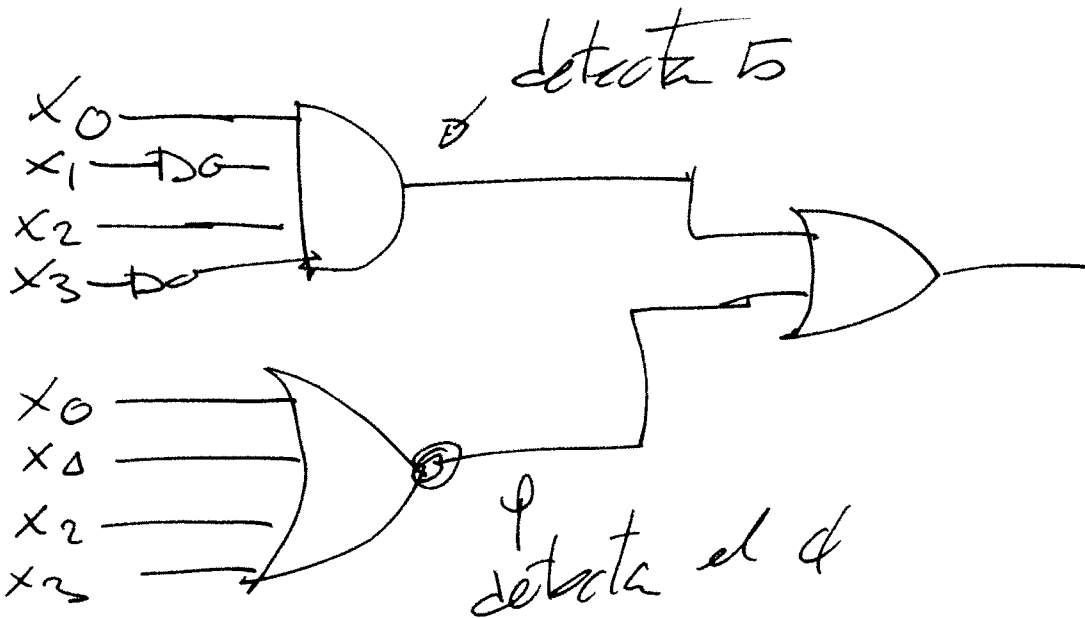
(11)

los nros representables con 3 digitos van del 000 \rightarrow 999

los nros mayores de 99 son todas aquellas en las q. el digito mas significativo es diferente de 0, es decir aquellas en las q. en su representacion ~~binaria~~ BCD tienen al menos un 1. \Rightarrow

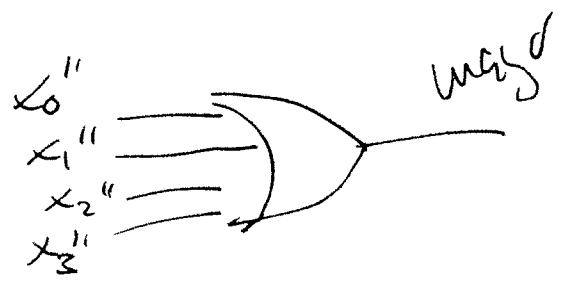
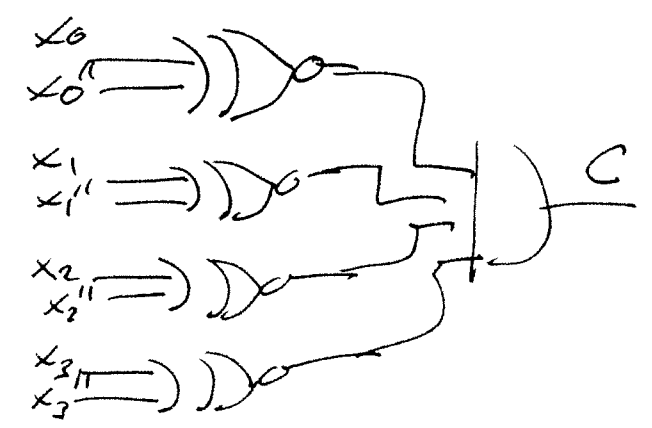
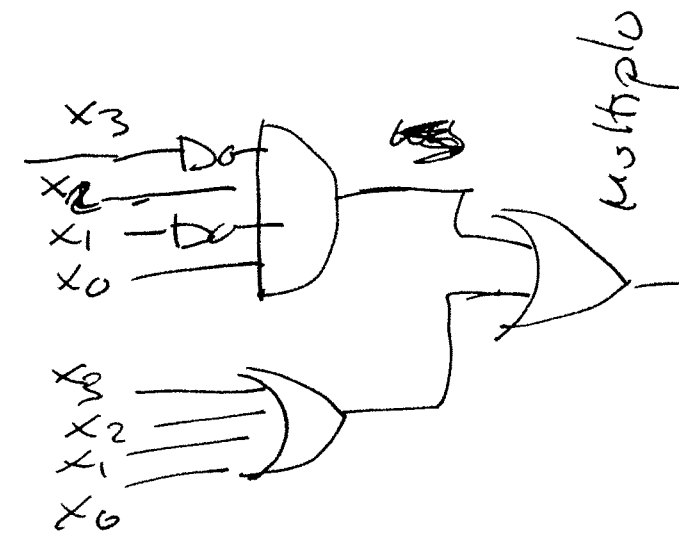
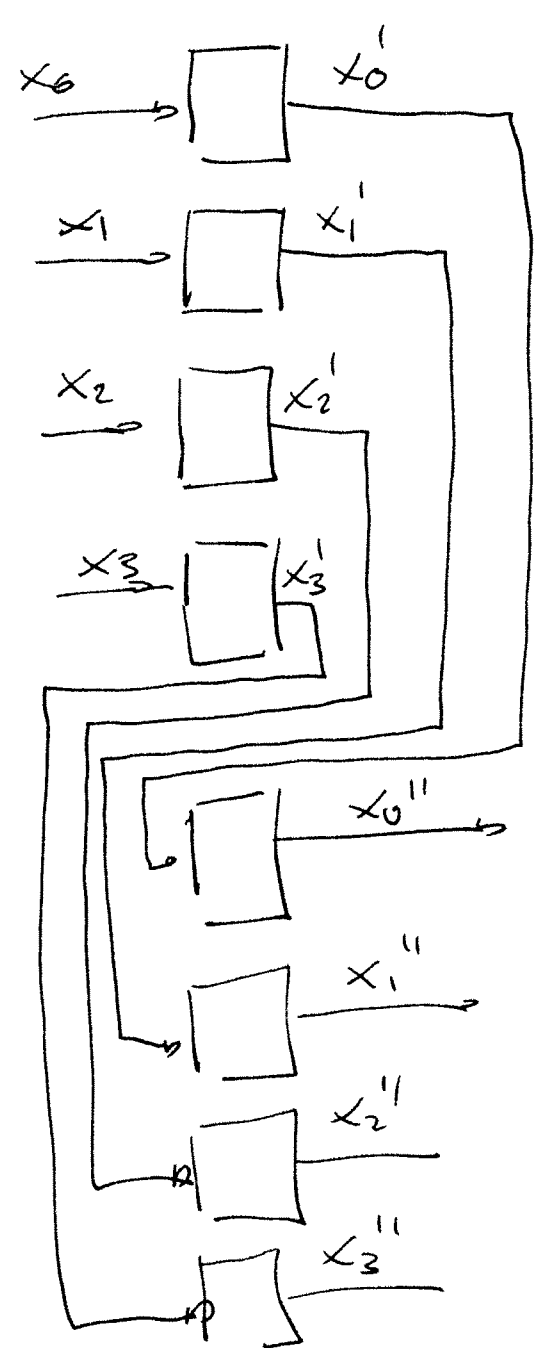


multiplo de 5. - son aquellas en las q. el ultimo digito acaba en 5 o 0



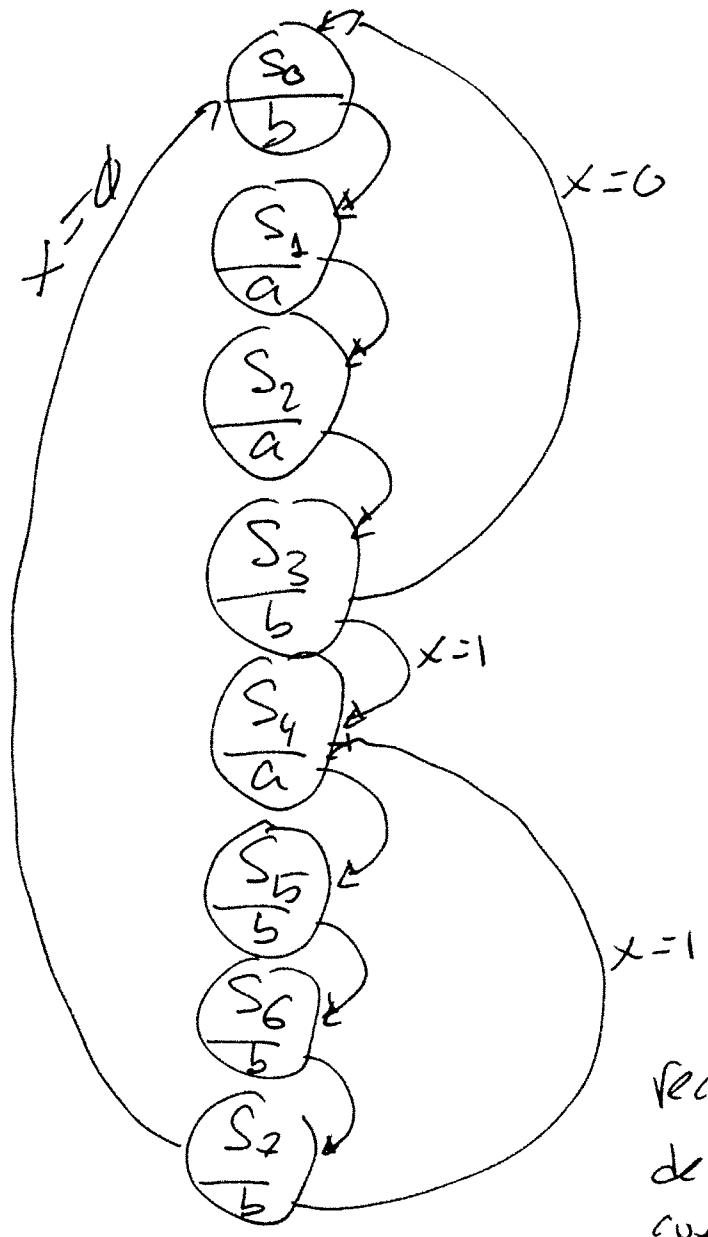
vamos a suponer q. el 10 digito q. Mega (12)
 sea el de mayor peso, es decir si Mega
 es el 23, el 1^{er} es el primer digito
 en Mega y el 3 el ultimo. visto esto
 el circuito queda

x → último digito
 x' → segundo digito
 x'' → primer digito

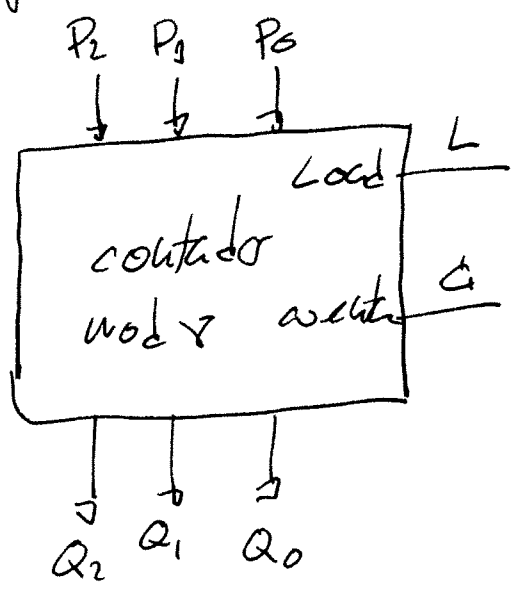


4) Implementar un generador de patrones con una magnitud de nueve es sencillo.

cada estado genera como salida un elemento del patrón. En este caso el patrón depende de una señal de control $x = 0 \rightarrow$ se genera aab
 $x = 1 \rightarrow aabbb$



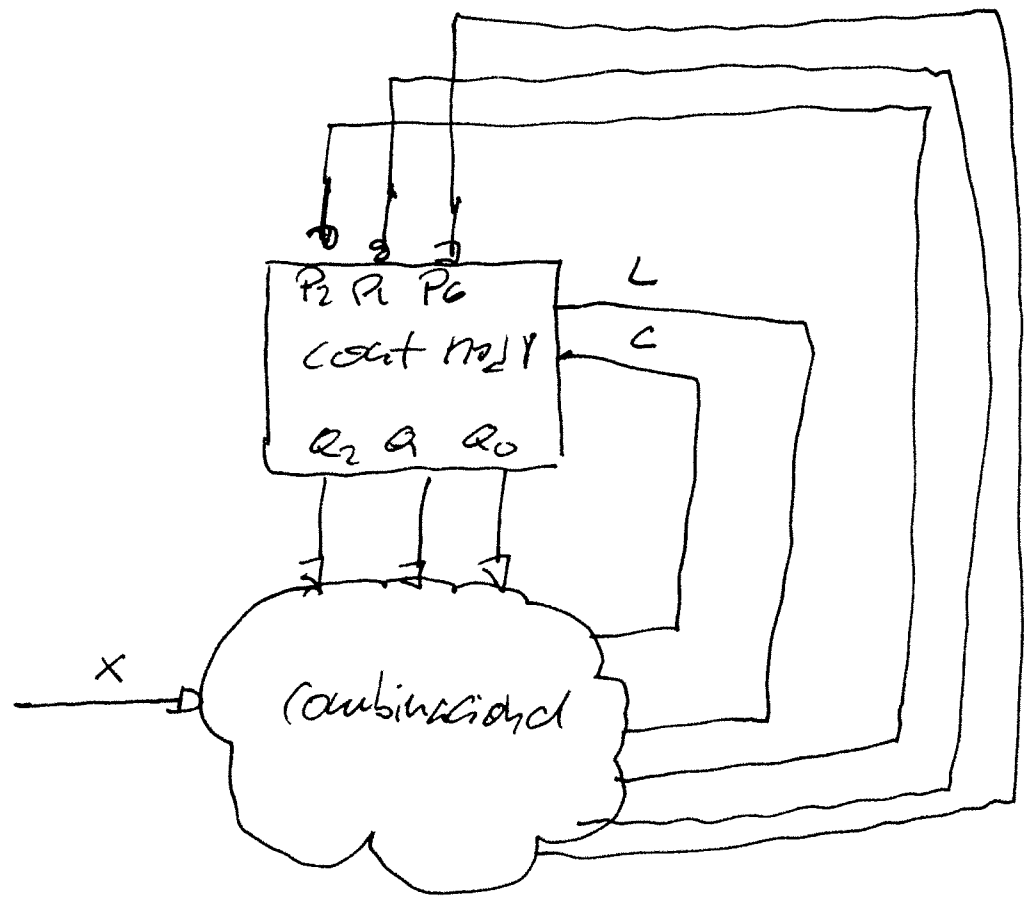
como los patrones se tienen q generar enteros solo importa el valor de x cuando se ha acabado de generar un patrón



recuerda \rightarrow cuando se pasa de un estado a otro en una cuenta natural (p.e. $S_0 \rightarrow S_1 \rightarrow S_2$) se activa la señal de cuenta y se desactiva la de load

Solo cuando se produce un salto (p.e. $S_2 \rightarrow S_0$) se activa la señal de load y se genera el valor de carga paralelo $P_2 P_1 P_0$

X	Q ₂	Q ₁	Q ₀	P ₂	P ₁	P ₀	L	C
0	0	0	0	-	-	-	0	1
0	0	0	1	-	-	-	0	1
0	0	1	0	-	-	-	0	1
0	0	1	1	0	0	0	1	-
0	1	0	0	-	-	-	0	1
0	1	0	1	-	-	-	0	1
0	1	1	0	-	-	-	0	1
0	1	1	1	-	-	-	0	1
1	0	0	0	-	-	-	0	1
1	0	0	1	-	-	-	0	1
1	0	1	0	-	-	-	0	1
1	0	1	1	-	-	-	0	1
1	1	0	0	-	-	-	0	1
1	1	0	1	-	-	-	0	1
1	1	1	0	-	-	-	0	1
1	1	1	1	1	0	0	1	-



Vamos a ver ahora como es (son) los circuitos combinatoriales q generan las señales P_2, P_1, P_0, L y C

(15)

$C = 1 \rightarrow$ puesto q. casi todas sus valores son 1 salvo 2 donde case

$P_1 = P_0 \rightarrow$

P_3

0	1	3	2
-	-	-	-
4	5	7	6
-	-	-	-
11	13	15	14
-	-	●	-
8	9	11	10
-	-	-	-

En este caso, si consideramos los donde case = ϕ todas las ~~señales~~ valores son ϕ por lo tanto $P_1 = P_0 = \phi$

P_2

0	1	3	2
-	-	-	-
4	5	7	6
-	-	-	-
12	13	15	14
-	-	1	-
8	9	11	10
-	-	-	-

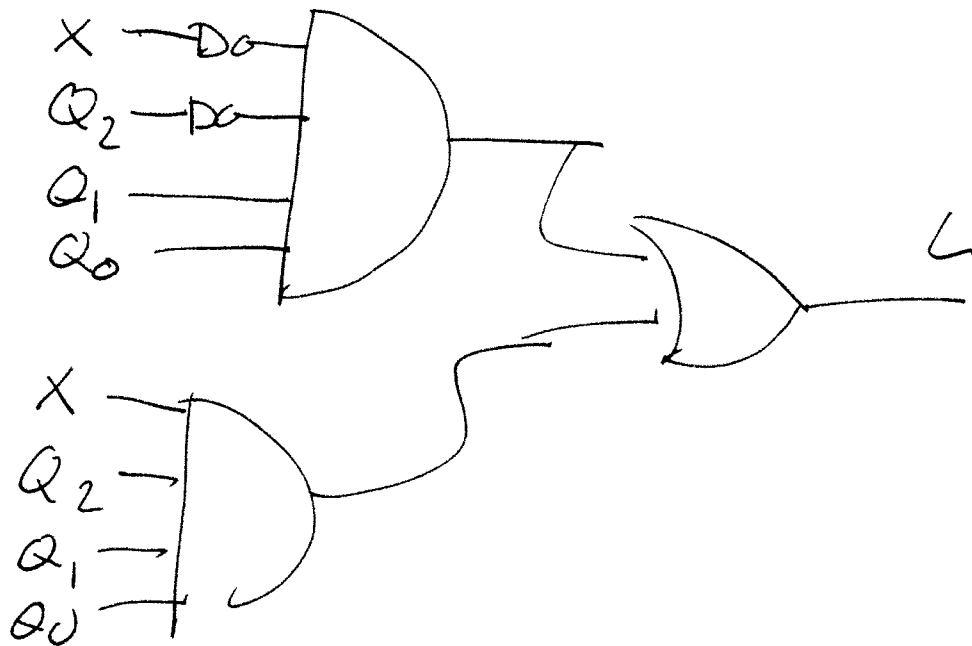
Q_2 $P_2 = X$

Q_1

Q_0

L no se puede simplificar. son la suma de los minterminos 9 y 15

(16)



(15)

El protocolo HDLC en un datos serie. se sabe q. al principio y al final de la información se inserta el código

01111110

El problema es q. esa combinación de 0's y 1's puede aparecer de manera casual en la información q. se está enviando por lo q. el receptor interpretará q. ha acabado la transmisión lo que da lugar a q. la información recibida sea incorrecta.

para evitar este problema se realiza la siguiente acción. se controla la información q. se está enviando y si se detectan 5 1's seguidos se introduce un 0 (q. después será eliminado en el receptor)

El problema pide implementar el detector de 5 1's seguidos. Así de ser pide implementar el decodificador de patrón "11111" mediante una máquina Mealy

S0 → no ha llegado el 1º elemento del patrón
↪ reset

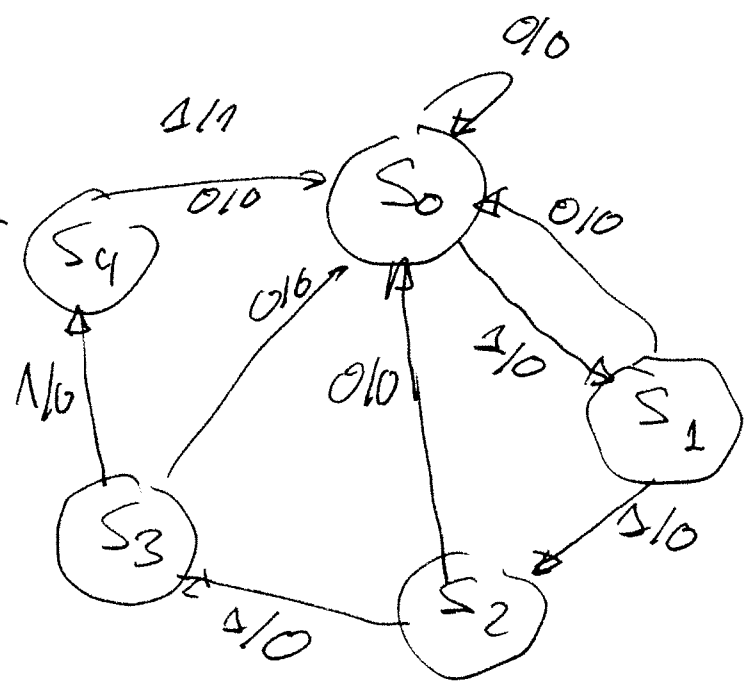
S1 → 1

S2 → 11

S3 → 111

S4 → 1111

~~S5~~



	e_2	e_1	e_0
S_0	0	0	0
S_1	0	0	1
S_2	0	1	0
S_3	0	1	1
S_4	1	0	0

$(e_2 e_1 e_0) \rightarrow$ estado actual (18)
 \hookrightarrow el q. se almacenará en los biestables

$(e_2 e_1 e_0) \rightarrow$ siguiente estado

$e_2 e_1 e_0 X$	$e_2 e_1 e_0 z$
0000	0000
0001	0010
0010	0000
0011	0100
0100	0000
0101	0110
0110	0000
0111	1000
1000	0000
1001	0001
1010	d d d d
1011	d d d d
1100	d d d d
1101	d d d d
1110	d d d d
1111	d d d d

como se utiliza una ROM no hace falta utilizar mapas de K.

para q. el don't care no se equivale con ningún valor real los sustituyo por 0s

