

Apuntes de Complementos Matemáticos de la Ingeniería Industrial

Tema 4. Curvas regulares en el espacio. Estudio local y resultados globales.

Ejercicios

26 de julio de 2020



Este material ha sido elaborado por Esther Gil Cid y se difunde bajo la licencia Creative Commons Reconocimiento- CompartirIgual 3.0. Puede leer las condiciones de la licencia en <http://creativecommons.org/licenses/by-sa/3.0/deed.es>

Departamento de Matemática Aplicada I. UNED

**CLASES PARTICULARES, TUTORÍAS TÉCNICAS ONLINE
LLAMA O ENVÍA WHATSAPP: 689 45 44 70**

**ONLINE PRIVATE LESSONS FOR SCIENCE STUDENTS
CALL OR WHATSAPP:689 45 44 70**

The logo for 'Cartagena99' features the text 'Cartagena99' in a stylized, blue, serif font. The '99' is significantly larger and more prominent than the rest of the text. The logo is set against a light blue background with a white arrow pointing to the right, and a yellow shadow effect at the bottom.

1. Determine la curva de Bézier cuyo polígono de control es

$$S = \{(-1, 1, 0), (0, 1, 0), (1, -1, -1), (0, 1, -1), (0, -1, 1)\}.$$

Representese gráficamente con *Maxima*.

Solución: El polígono de control es

$$\mathbf{b}_0 = (-1, 1, 0), \mathbf{b}_1 = (0, 1, 0), \mathbf{b}_2 = (1, -1, -1), \mathbf{b}_3 = (0, 1, -1), \mathbf{b}_4 = (0, -1, 1).$$

La curva de Bézier está dada por:

$$\begin{aligned} \mathbf{x}(t) &= \sum_{i=0}^4 \mathbf{b}_i B_i^4(t) = \sum_{i=0}^4 \mathbf{b}_i \binom{4}{i} t^i (1-t)^{4-i} \\ &= (-1, 1, 0) \binom{4}{0} t^0 (1-t)^{4-0} + (0, 1, 0) \binom{4}{1} t^1 (1-t)^{4-1} + \\ &+ (1, -1, -1) \binom{4}{2} t^2 (1-t)^{4-2} + (0, 1, -1) \binom{4}{3} t^3 (1-t)^{4-3} \\ &+ (0, -1, 1) \binom{4}{4} t^4 (1-t)^{4-4} \\ &= (-1, 1, 0) (1-t)^4 + 4(0, 1, 0)t(1-t)^3 + 6(1, -1, -1)t^2(1-t)^2 \\ &+ 4(0, 1, -1)t^3(1-t) + (0, -1, 1)t^4 \\ &= \begin{pmatrix} -(-t+1)^4 + 6t^2(-t+1)^2 \\ -t^4 + (-t+1)^4 + 4t(-t+1)^3 + 4t^3(-t+1) - 6t^2(-t+1)^2 \\ t^4 - 4t^3(-t+1) - 6t^2(-t+1)^2 \end{pmatrix} t \\ &= (5t^4 - 8t^3 + 4t - 1, -14t^4 + 24t^3 - 12t^2 + 1, -t^4 + 8t^3 - 6t^2) \end{aligned}$$

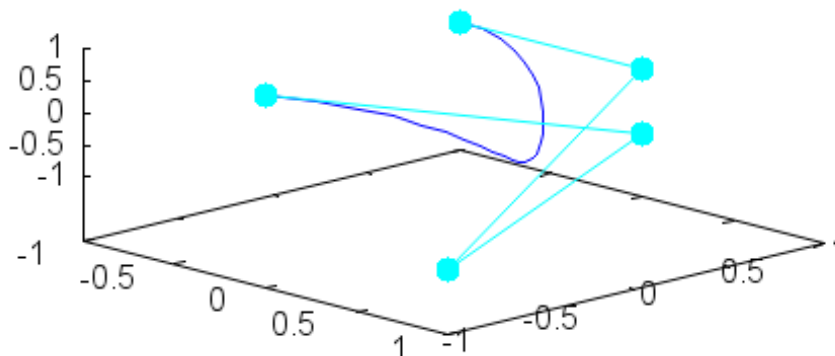
Para representar esta curva, se ha escrito en *Maxima* (está hecho en el documento CM-Maxima-Tema4.wxm)

```
--> load(draw)$
control: [[-1,1,0],[0,1,0],[1,-1,-1],[0,1,-1],[0,-1,1]];
longi:5
B(t,n,i):=binomial(n,i)*(t^i)*(1-t)^(n-i);
curvabezier(t):=ratsimp
(sum(B(t,longi-1,i)*control[i+1],i,0,longi-1));
wxdraw3d
```

CLASES PARTICULARES, TUTORÍAS TÉCNICAS ONLINE
LLAMA O ENVÍA WHATSAPP: 689 45 44 70

ONLINE PRIVATE LESSONS FOR SCIENCE STUDENTS
CALL OR WHATSAPP:689 45 44 70





2. Escriba la curva $\mathbf{x}(t) = (t^3 - 2t + 1, 4t - 1, t^2)$ con $t \in [0, 1]$ como una curva de Bézier a partir de un polígono de control con 6 puntos. Apóyese en **Maxima** para resolver el sistema que resulta.

Solución. Si el polígono de control está formado por $\{\mathbf{b}_i\}_{i=0,\dots,5} = \{(x_i, y_i, z_i)\}_{i=0,\dots,5}$, entonces se puede escribir como una curva de Bézier a partir de los polinomios de Bernstein de grado 5:

$$\begin{aligned} \mathbf{x}(t) &= \sum_{i=0}^5 \mathbf{b}_i B_i^5(t) \\ &= \mathbf{b}_0 B_0^5(t) + \mathbf{b}_1 B_1^5(t) + \mathbf{b}_2 B_2^5(t) + \mathbf{b}_3 B_3^5(t) + \mathbf{b}_4 B_4^5(t) + \mathbf{b}_5 B_5^5(t) \\ &= \mathbf{b}_0 \binom{5}{0} t^0 (1-t)^5 + \mathbf{b}_1 \binom{5}{1} t^1 (1-t)^4 + \mathbf{b}_2 \binom{5}{2} t^2 (1-t)^3 \\ &\quad + \mathbf{b}_3 \binom{5}{3} t^3 (1-t)^2 + \mathbf{b}_4 \binom{5}{4} t^4 (1-t)^1 + \mathbf{b}_5 \binom{5}{5} t^5 (1-t)^0 \\ &= \mathbf{b}_0 (1-t)^5 + 5\mathbf{b}_1 t (1-t)^4 + 10\mathbf{b}_2 t^2 (1-t)^3 \end{aligned}$$



CLASES PARTICULARES, TUTORÍAS TÉCNICAS ONLINE
LLAMA O ENVÍA WHATSAPP: 689 45 44 70

ONLINE PRIVATE LESSONS FOR SCIENCE STUDENTS
CALL OR WHATSAPP:689 45 44 70

Si llamamos $\mathbf{b}_i = (x_i, y_i, z_i)$, y desarrollamos:

$$\begin{aligned} \mathbf{x}(t) &= (x_0, y_0, z_0)(1-t)^5 \\ &+ 5(x_1, y_1, z_1)t(1-t)^4 + 10(x_2, y_2, z_2)t^2(1-t)^3 \\ &+ 10(x_3, y_3, z_3)t^3(1-t)^2 + 5(x_4, y_4, z_4)t^4(1-t) + (x_5, y_5, z_5)t^5 \\ &= \begin{pmatrix} x_0(1-t)^5 + 5tx_1(1-t)^4 + 10t^2x_2(1-t)^3 + 10t^3x_3(1-t)^2 + 5t^4x_4(1-t) + t^5x_5 \\ y_0(1-t)^5 + 5ty_1(1-t)^4 + 10t^2y_2(1-t)^3 + 10t^3y_3(1-t)^2 + 5t^4y_4(1-t) + t^5y_5 \\ z_0(1-t)^5 + 5tz_1(1-t)^4 + 10t^2z_2(1-t)^3 + 10t^3z_3(1-t)^2 + 5t^4z_4(1-t) + t^5z_5 \end{pmatrix} \\ &= (t^3 - 2t + 1, 4t - 1, t^2). \end{aligned}$$

Con ayuda de Maxima, resolvemos los sistemas que resultan. Cada uno de estos sistemas consiste en 6 ecuaciones y 6 incógnitas. Por ejemplo, para determinar x_i tenemos que desarrollar primero:

$$\begin{aligned} x_0(-t+1)^5 + 5tx_1(-t+1)^4 + 10t^2x_2(-t+1)^3 \\ + 10t^3x_3(-t+1)^2 + 5t^4x_4(-t+1) + t^5x_5 \end{aligned}$$

y luego igualar coeficientes con $t^3 - 2t + 1$ y resolver. Sin embargo, con Maxima basta hacer (véase el documento CM-Maxima-Tema4.wxm):

```
--> curva(t):=x0*(-t+1)^5+5*x1*t*(-t+1)^4+10*(t^2)*x2*(-t+1)^3
+10*(t^3)*x3*(-t+1)^2+5*(t^4)*x4*(1-t)+(t^5)*x5;
componente(t):=t^3-2*t+1;
aa:expand(curva(t)-componente(t));
ec0:coeff(aa,t,0); ec1:coeff(aa,t,1);
ec2:coeff(aa,t,2);
ec3:coeff(aa,t,3);
ec4:coeff(aa,t,4);
ec5:coeff(aa,t,5);
linsolve([ec0,ec1,ec2,ec3,ec4,ec5],[x0,x1,x2,x3,x4,x5]);
```

De forma similar se procede con las otras componentes e los vértices del polígono de control y se obtiene el siguiente polígono de control:

$$(1, -1, 0), \left(\frac{3}{5}, -\frac{1}{5}, 0\right), \left(\frac{1}{5}, \frac{3}{5}, \frac{1}{10}\right), \left(-\frac{1}{10}, \frac{7}{5}, \frac{3}{10}\right), \left(-\frac{1}{5}, \frac{11}{5}, \frac{3}{5}\right), (0, 3, 1).$$

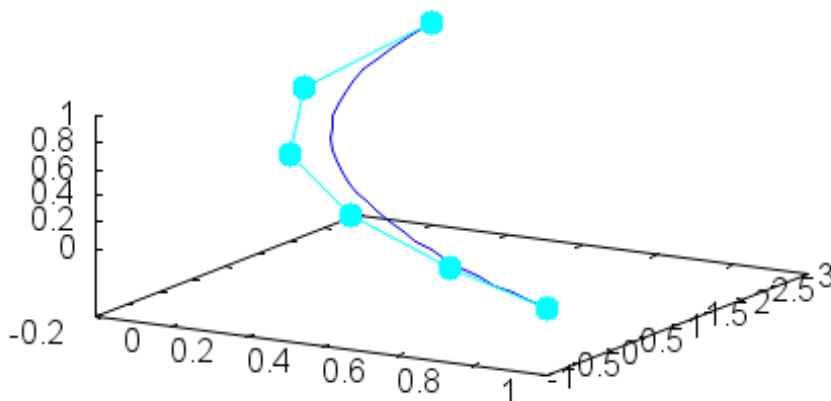
**CLASES PARTICULARES, TUTORÍAS TÉCNICAS ONLINE
LLAMA O ENVÍA WHATSAPP: 689 45 44 70**

**ONLINE PRIVATE LESSONS FOR SCIENCE STUDENTS
CALL OR WHATSAPP:689 45 44 70**

Cartagena99

```
-> kill(all)$
load(draw)$
curvabezier(t):=[t^3-2*t+1,4*t-1,t^2];
control:[[1,-1,0],[3/5,-1/5,0],[1/5,3/5,1/10],[-1/10,7/5,3/10],
[-1/5,11/5,3/5],[0,3,1]];
wxdraw3d
(parametric(curvabezier(t)[1],curvabezier(t)[2],curvabezier(t)[3],t,0,1),
point_type=filled_circle, point_size=2,
color=cyan,points_joined=true,points(control));
```

Resulta:



3. Determinése el polígono de control de la curva de Bézier de la curva dada por

$$\mathbf{x}(t) = (t^3 - 2t + 1, 4t - 1, t^2)$$

con $t \in [0, 1]$, pero cuando este polígono tiene 5 puntos. Este ejemplo se hizo para un polígono de control de 4 puntos en los apuntes.

**CLASES PARTICULARES, TUTORÍAS TÉCNICAS ONLINE
LLAMA O ENVÍA WHATSAPP: 689 45 44 70**

**ONLINE PRIVATE LESSONS FOR SCIENCE STUDENTS
CALL OR WHATSAPP:689 45 44 70**



de Bernstein de grado 4:

$$\begin{aligned} \mathbf{x}(t) &= \sum_{i=0}^4 \mathbf{b}_i B_i^4(t) \\ &= \mathbf{b}_0 B_0^4(t) + \mathbf{b}_1 B_1^4(t) + \mathbf{b}_2 B_2^4(t) + \mathbf{b}_3 B_3^4(t) + \mathbf{b}_4 B_4^4(t) \\ &= \mathbf{b}_0 \binom{4}{0} t^0 (1-t)^4 + \mathbf{b}_1 \binom{4}{1} t^1 (1-t)^3 + \mathbf{b}_2 \binom{4}{2} t^2 (1-t)^2 \\ &\quad + \mathbf{b}_3 \binom{4}{3} t^3 (1-t)^1 + \mathbf{b}_4 \binom{4}{4} t^4 (1-t)^0 \\ &= \mathbf{b}_0 (1-t)^4 + \mathbf{b}_1 4t^1 (1-t)^3 + \mathbf{b}_2 6t^2 (1-t)^2 + \mathbf{b}_3 4t^3 (1-t)^1 + \mathbf{b}_4 t^4. \end{aligned}$$

Si llamamos $\mathbf{b}_i = (x_i, y_i, z_i)$, entonces

$$\begin{aligned} \mathbf{x}(t) &= (x_0, y_0, z_0) (1-t)^4 + 4(x_1, y_1, z_1) t^1 (1-t)^3 + 6(x_2, y_2, z_2) t^2 (1-t)^2 \\ &\quad + 4(x_3, y_3, z_3) t^3 (1-t)^1 + (x_4, y_4, z_4) t^4 \\ &= \begin{pmatrix} (1-t)^4 x_0 + 4(1-t)^3 t x_1 + 6(1-t)^2 t^2 x_2 + 4(1-t) t^3 x_3 + t^4 x_4 \\ (1-t)^4 y_0 + 4(1-t)^3 t y_1 + 6(1-t)^2 t^2 y_2 + 4(1-t) t^3 y_3 + t^4 y_4 \\ (1-t)^4 z_0 + 4(1-t)^3 t z_1 + 6(1-t)^2 t^2 z_2 + 4(1-t) t^3 z_3 + t^4 z_4 \end{pmatrix}^t \\ &= \begin{pmatrix} x_0 + (-4x_0 + 4x_1)t + (6x_0 - 12x_1 + 6x_2)t^2 + (-4x_0 + 12x_1 - 12x_2 + 4x_3)t^3 + (x_0 - 4x_1 + 6x_2 - 4x_3 + x_4)t^4 \\ y_0 + (-4y_0 + 4y_1)t + (6y_0 - 12y_1 + 6y_2)t^2 + (-4y_0 + 12y_1 - 12y_2 + 4y_3)t^3 + (y_0 - 4y_1 + 6y_2 - 4y_3 + y_4)t^4 \\ z_0 + (-4z_0 + 4z_1)t + (6z_0 - 12z_1 + 6z_2)t^2 + (-4z_0 + 12z_1 - 12z_2 + 4z_3)t^3 + (z_0 - 4z_1 + 6z_2 - 4z_3 + z_4)t^4 \end{pmatrix} \\ &= (t^3 - 2t + 1, 4t - 1, t^2). \end{aligned}$$

Resolvemos con ayuda de Maxima el sistema y tenemos:

$$\begin{aligned} x_0 &= 1, x_1 = \frac{1}{2}, x_2 = 0, x_3 = -\frac{1}{4}, x_4 = 0, \\ y_0 &= -1, y_1 = 0, y_2 = 1, y_3 = 2, y_4 = 3, \\ z_0 &= 0, z_1 = 0, z_2 = \frac{1}{6}, z_3 = \frac{1}{2}, z_4 = 1. \end{aligned}$$

Los puntos son:

$$(1, -1, 0), \left(\frac{1}{2}, 0, 0\right), \left(0, 1, \frac{1}{6}\right), \left(-\frac{1}{4}, 2, \frac{1}{2}\right), (0, 3, 1).$$

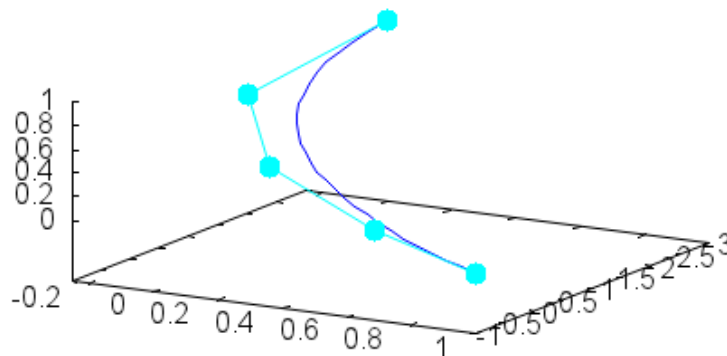
Entonces, la curva se puede escribir como:

$$\mathbf{x}(t) = (t^3 - 2t + 1, 4t - 1, t^2) = \mathbf{b}_0 B_0^4(t) + \mathbf{b}_1 B_1^4(t) + \mathbf{b}_2 B_2^4(t) + \mathbf{b}_3 B_3^4(t) + \mathbf{b}_4 B_4^4(t)$$

**CLASES PARTICULARES, TUTORÍAS TÉCNICAS ONLINE
LLAMA O ENVÍA WHATSAPP: 689 45 44 70**

**ONLINE PRIVATE LESSONS FOR SCIENCE STUDENTS
CALL OR WHATSAPP:689 45 44 70**





4. Sea C la la curva dada por

$$x = t^3 - t, y = t^5 - t, z = \text{sen}^2 \pi t.$$

para $t \in [-\frac{\pi}{2}, \frac{\pi}{2}]$. Estudiar si es una curva regular y si $(0, 0, 0)$ es un punto múltiple.

Solución: La curva es regular si no tiene puntos singulares, es decir, puntos donde el vector derivada sea $(0, 0, 0)$. Como el vector derivada es

$$\mathbf{x}'(t) = (3t^2 - 1, 5t^4 - 1, 2 \text{sen} \pi t \cos \pi t),$$

este vector se anula y sólo si

$$3t^2 - 1 = 0,$$

$$5t^4 - 1 = 0,$$

$$2 \text{sen} \pi t \cos \pi t = 0.$$

Esto no ocurre simultáneamente para ningún valor de t , por tanto, es una curva regular.

Para que sea $(0, 0, 0)$ sea punto múltiple debe ser

$$x = 0, y = 0, z = 0$$

CLASES PARTICULARES, TUTORÍAS TÉCNICAS ONLINE
LLAMA O ENVÍA WHATSAPP: 689 45 44 70

ONLINE PRIVATE LESSONS FOR SCIENCE STUDENTS
CALL OR WHATSAPP:689 45 44 70



5. Hallar la recta tangente a la hélice circular $x = \cos \pi t, y = \sin \pi t, z = t$ en el punto correspondiente a $z = 1$.

Solución: El punto $z = 1$ corresponde a $t = 1$ y a $x = \cos \pi = -1, y = \sin \pi = 0$. El punto será $(-1, 0, 1)$. Un vector director de la recta tangente es el vector derivada en ese punto. Como

$$\begin{aligned}\mathbf{x}(t) &= (\cos \pi t, \sin \pi t, t), \\ \mathbf{x}'(t) &= (-\pi \sin \pi t, \pi \cos \pi t, 1),\end{aligned}$$

en $t = 1$ este vector es

$$(0, -\pi, 1).$$

Por eso, la recta tangente tiene por ecuaciones

$$x = -1 + 0\lambda, y = 0 - \pi\lambda, z = 1 + \lambda,$$

o

$$x = -1, z = 1 - \frac{y}{\pi}.$$

6. Sea C la curva definida por las ecuaciones

$$\mathbf{x}(t) = (t^2, 4t, t^3)$$

Determine la función curvatura y el radio de curvatura en $\mathbf{x}(0) = (0, 0, 0)$.

Solución: Sabemos que

$$k(t) = \frac{\|\mathbf{x}'(t) \times \mathbf{x}''(t)\|}{\|\mathbf{x}'(t)\|^3}.$$

Para esta curva, tenemos:

$$\begin{aligned}\mathbf{x}'(t) &= (2t, 4, 3t^2), & \mathbf{x}''(t) &= (2, 0, 6t), \\ \mathbf{x}'(0) &= (0, 4, 0), & \mathbf{x}''(0) &= (2, 0, 0), & \|\mathbf{x}'(0)\| &= 4, \\ \mathbf{x}'(0) \times \mathbf{x}''(0) &= \begin{vmatrix} i & j & k \\ 0 & 4 & 0 \\ 2 & 0 & 0 \end{vmatrix} = -8k, & \|\mathbf{x}'(0) \times \mathbf{x}''(0)\| &= 8.\end{aligned}$$

Entonces la curvatura en $(0, 0, 0)$ es

**CLASES PARTICULARES, TUTORÍAS TÉCNICAS ONLINE
LLAMA O ENVÍA WHATSAPP: 689 45 44 70**

**ONLINE PRIVATE LESSONS FOR SCIENCE STUDENTS
CALL OR WHATSAPP:689 45 44 70**

Cartagena99

7. Encontrar la curvatura y el vector normal de la parametrización $\mathbf{x} : \mathbb{R} \rightarrow \mathbb{R}^3$, $\mathbf{x}(t) = (t, 2t^2, t^2)$.

Solución: Comenzamos con la curvatura k ,

Sabemos que

$$k(t) = \frac{\|\mathbf{x}'(t) \times \mathbf{x}''(t)\|}{\|\mathbf{x}'(t)\|^3}.$$

Para esta curva, tenemos:

$$\mathbf{x}'(t) = (1, 4t, 2t), \quad \mathbf{x}''(t) = (0, 4, 2),$$

$$\|\mathbf{x}'(t)\| = \sqrt{1 + (4t)^2 + (2t)^2} = \sqrt{1 + 20t^2}$$

$$\mathbf{x}'(t) \times \mathbf{x}''(t) = \begin{vmatrix} i & j & k \\ 1 & 4t & 2t \\ 0 & 4 & 2 \end{vmatrix} = -2j + 4k,$$

$$\|\mathbf{x}'(t) \times \mathbf{x}''(t)\| = \sqrt{(-2)^2 + 4^2} = \sqrt{20} = 2\sqrt{5}.$$

Entonces

$$k(t) = \frac{2\sqrt{5}}{\sqrt{1 + 20t^2}^3}.$$

El vector normal tiene la misma dirección y sentido que el vector

$$(\mathbf{x}'(t) \times \mathbf{x}''(t)) \times \mathbf{x}'(t).$$

En este caso, es

$$\begin{aligned} (\mathbf{x}'(t) \times \mathbf{x}''(t)) \times \mathbf{x}'(t) &= ((1, 4t, 2t) \times (0, 4, 2)) \times (1, 4t, 2t) \\ &= (0, -2, 4) \times (1, 4t, 2t) \\ &= \begin{vmatrix} i & j & k \\ 0 & -2 & 4 \\ 1 & 4t & 2t \end{vmatrix} = (-20t, 4, 2). \end{aligned}$$

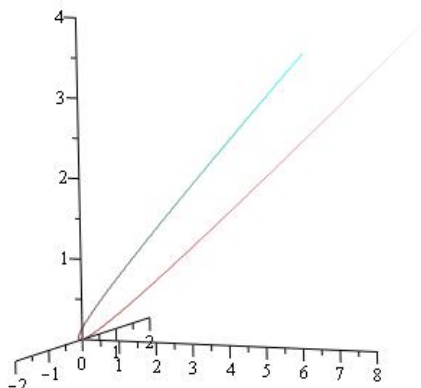
Como debe ser unitario, el vector normal es

$$\mathbf{n}(t) = \frac{(-20t, 4, 2)}{\|(-20t, 4, 2)\|}$$

CLASES PARTICULARES, TUTORÍAS TÉCNICAS ONLINE
LLAMA O ENVÍA WHATSAPP: 689 45 44 70

ONLINE PRIVATE LESSONS FOR SCIENCE STUDENTS
CALL OR WHATSAPP:689 45 44 70

Cartagena99



8. Sea C la hélice dada por la ecuación

$$\mathbf{x}(t) = (a \cos t, a \sin t, bt).$$

Vamos a determinar su plano osculador en el punto $\mathbf{x}(0) = (a, 0, 0)$.

Solución. Tenemos:

$$\begin{aligned} \mathbf{x}'(t) &= (-a \sin t, a \cos t, b), \\ \mathbf{x}''(t) &= (-a \cos t, -a \sin t, 0). \end{aligned}$$

Entonces, para $t = 0$, se cumple

$$\begin{aligned} \mathbf{x}(0) &= (a, 0, 0), \\ \mathbf{x}'(0) &= (0, a, b), \\ \mathbf{x}''(0) &= (-a, 0, 0). \end{aligned}$$

Un punto (x, y, z) del plano osculador va a verificar:

$$0 = \det(\mathbf{x}'(0), \mathbf{x}''(0), (x, y, z) - (a, 0, 0))$$

CLASES PARTICULARES, TUTORÍAS TÉCNICAS ONLINE
LLAMA O ENVÍA WHATSAPP: 689 45 44 70

ONLINE PRIVATE LESSONS FOR SCIENCE STUDENTS
CALL OR WHATSAPP:689 45 44 70



9. Determinése el centro de curvatura de la curva dada por las ecuaciones $x = \cos \theta$, $y = \sin \theta$, $z = \theta$ en $z = \pi$.

Solución. Es el punto $(-1, 0, \pi)$.

Hay que determinar el vector normal y el radio de curvatura. Sabemos que el vector

$$(\mathbf{x}'(\theta) \times \mathbf{x}''(\theta)) \times \mathbf{x}'(\theta)$$

tiene la misma dirección y sentido que el vector normal principal. Por eso, hacemos:

$$\begin{aligned} \mathbf{x}'(\theta) &= (-\sin \theta, \cos \theta, 1), \quad \mathbf{x}''(\theta) = (-\cos \theta, -\sin \theta, 0), \\ \mathbf{x}'(\pi) \times \mathbf{x}''(\pi) &= (0, -1, 1) \times (1, 0, 0) = \begin{vmatrix} i & j & k \\ 0 & -1 & 1 \\ 1 & 0 & 0 \end{vmatrix} = (0, 1, 1), \\ (\mathbf{x}'(\pi) \times \mathbf{x}''(\pi)) \times \mathbf{x}'(\pi) &= (0, 1, 1) \times (0, -1, 1) = \begin{vmatrix} i & j & k \\ 0 & 1 & 1 \\ 0 & -1 & 1 \end{vmatrix} = (2, 0, 0). \end{aligned}$$

Por eso, el vector normal en el punto correspondiente a $\theta = \pi$ es

$$\mathbf{n}(\pi) = (1, 0, 0).$$

Como la curvatura en un punto genérico está dada por

$$k(t_0) = \frac{\|\mathbf{x}'(t_0) \times \mathbf{x}''(t_0)\|}{\|\mathbf{x}'(t_0)\|^3},$$

en este caso tenemos:

$$k(\pi) = \frac{\|\mathbf{x}'(\pi) \times \mathbf{x}''(\pi)\|}{\|\mathbf{x}'(\pi)\|^3} = \frac{\|(0, -1, 1)\|}{\|(0, 1, 1)\|^3} = \frac{\sqrt{2}}{\sqrt{2}^3} = \frac{1}{2}.$$

el radio de curvatura en el punto $\mathbf{x}(\pi) = (-1, 0, \pi)$ es $R(\pi) = 2$. El centro de curvatura es, por tanto:

$$\mathbf{c} = \mathbf{x}(\pi) + R(\pi)\mathbf{n}(\pi) = (-1, 0, \pi) + 2(1, 0, 0) = (1, 0, \pi).$$



CLASES PARTICULARES, TUTORÍAS TÉCNICAS ONLINE
LLAMA O ENVÍA WHATSAPP: 689 45 44 70

ONLINE PRIVATE LESSONS FOR SCIENCE STUDENTS
CALL OR WHATSAPP:689 45 44 70

- a) $(-1, 0, \pi/2)$.
- b) $(-\pi, 0, \pi)$.
- c) $(1, 0, \pi)$.
- d) $(1, 1, 1)$.
- e) $(0, -1, 1)$.
- f) $(-1, \pi, \pi)$.
- g) $(\pi, 1, \pi)$.
- h) $(1, 0, 1)$.
- i) $(1, -1, 1)$.
- j) Ninguno de ellos.

Solución. Es correcta la opción c). Lo comprobamos, haciendo

$$\begin{aligned}\mathbf{x}'(t) &= (\pi \cos \pi t, -\pi \operatorname{sen} \pi t, 1), \\ \mathbf{x}''(t) &= (-\pi^2 \operatorname{sen} \pi t, -\pi^2 \cos \pi t, 0).\end{aligned}$$

Como

$$(0, -1, 1) = \mathbf{x}(1),$$

en este punto se tiene

$$\mathbf{x}'(1) = (-\pi, 0, 1), \quad \mathbf{x}''(1) = (0, \pi^2, 0).$$

Por tanto, la dirección del vector binormal es la del vector

$$\mathbf{x}'(1) \times \mathbf{x}''(1) = \begin{vmatrix} \mathbf{i} & \mathbf{j} & \mathbf{k} \\ -\pi & 0 & 1 \\ 0 & \pi^2 & 0 \end{vmatrix} = -\pi^2 \mathbf{i} - \pi^3 \mathbf{k}$$

o lo que es equivalente la del vector $(-\pi^2, 0, -\pi^3)$, luego es la dirección de $(1, 0, \pi)$.

11. Sea la curva de ecuaciones

**CLASES PARTICULARES, TUTORÍAS TÉCNICAS ONLINE
LLAMA O ENVÍA WHATSAPP: 689 45 44 70**

**ONLINE PRIVATE LESSONS FOR SCIENCE STUDENTS
CALL OR WHATSAPP:689 45 44 70**



Entonces determinamos:

$$\begin{aligned}\mathbf{x}'(t) &= (-\operatorname{sen} t, 2t, 1), & \mathbf{x}''(t) &= (-\cos t, 2, 0), \\ \mathbf{x}'(0) &= (0, 0, 1), & \mathbf{x}''(0) &= (-1, 2, 0).\end{aligned}$$

La curva no está parametrizada por la longitud de arco, pero $\mathbf{x}'(0)$ es un vector unitario y, por eso: el vector tangente a la curva en $(1, -2, 1)$ es:

$$\mathbf{t}(0) = (0, 0, 1).$$

Además, sabemos que

$$\mathbf{v} = (\mathbf{x}'(0) \times \mathbf{x}''(0)) \times \mathbf{x}'(0) = ((0, 0, 1) \times (-1, 2, 0)) \times (0, 0, 1) = (-1, 2, 0)$$

tiene la misma dirección y sentido que el vector normal principal \mathbf{n} y que, por lo tanto,

$$\mathbf{n} = \frac{\mathbf{v}}{\|\mathbf{v}\|} = \frac{(-1, 2, 0)}{\sqrt{(-1)^2 + 2^2}} = \frac{1}{\sqrt{5}}(-1, 2, 0).$$

Por tanto, el vector binormal es

$$\begin{aligned}\mathbf{b} &= \mathbf{t} \times \mathbf{n} = (0, 0, 1) \times \frac{1}{\sqrt{5}}(-1, 2, 0) = \frac{1}{\sqrt{5}}(0, 0, 1) \times (-1, 2, 0) \\ &= \frac{1}{\sqrt{5}}(-2, -1, 0).\end{aligned}$$

Entonces el triedro de Frenet es

$$\left\{ (0, 0, 1), \frac{1}{\sqrt{5}}(-1, 2, 0), \frac{1}{\sqrt{5}}(-2, -1, 0) \right\}.$$

12. Sea C la hélice dada, para las constantes $a, b \in \mathbb{R}$, por la ecuación

$$\mathbf{x}(t) = (a \cos t, a \operatorname{sen} t, bt).$$

- a) ¿Cuál es el triedro de Frenet en un punto genérico $\mathbf{x}(t_0)$? ¿Cuál es el triedro de Frenet en $t = 0$?

**CLASES PARTICULARES, TUTORÍAS TÉCNICAS ONLINE
LLAMA O ENVÍA WHATSAPP: 689 45 44 70**

**ONLINE PRIVATE LESSONS FOR SCIENCE STUDENTS
CALL OR WHATSAPP:689 45 44 70**

Cartagena99

a) Tenemos que calcular

$$\mathbf{x}'(t) = (-a \operatorname{sen} t, a \operatorname{cos} t, b), \quad \mathbf{x}''(t) = (-a \operatorname{cos} t, -a \operatorname{sen} t, 0).$$

El vector \mathbf{v} dado por

$$\begin{aligned} \mathbf{v} &= (\mathbf{x}'(t) \times \mathbf{x}''(t)) \times \mathbf{x}'(t) \\ &= ((-a \operatorname{sen} t, a \operatorname{cos} t, b) \times (-a \operatorname{cos} t, -a \operatorname{sen} t, 0)) \times (-a \operatorname{sen} t, a \operatorname{cos} t, b) \\ &= \begin{vmatrix} i & j & k \\ -a \operatorname{sen} t & a \operatorname{cos} t & b \\ -a \operatorname{cos} t & -a \operatorname{sen} t & 0 \end{vmatrix} \times (-a \operatorname{sen} t, a \operatorname{cos} t, b) \\ &= (ab \operatorname{sen} t, -ab \operatorname{cos} t, a^2) \times (-a \operatorname{sen} t, a \operatorname{cos} t, b) = \\ &= \begin{vmatrix} i & j & k \\ ab \operatorname{sen} t & -ab \operatorname{cos} t & a^2 \\ -a \operatorname{sen} t & a \operatorname{cos} t & b \end{vmatrix} \\ &= (-(a^3 + ab^2) \operatorname{cos} t, -(a^3 + ab^2) \operatorname{sen} t, 0), \end{aligned}$$

tiene la misma dirección y sentido que el vector normal principal

\mathbf{n} . Por eso:

$$\begin{aligned} \mathbf{n} &= \frac{\mathbf{v}}{\|\mathbf{v}\|} = \frac{(-(a^3 + ab^2) \operatorname{cos} t, -(a^3 + ab^2) \operatorname{sen} t, 0)}{\sqrt{(-(a^3 + ab^2))^2 \operatorname{cos}^2 t + (-(a^3 + ab^2))^2 \operatorname{sen}^2 t}} \\ &= \frac{1}{(a^3 + ab^2)} (-(a^3 + ab^2) \operatorname{cos} t, -(a^3 + ab^2) \operatorname{sen} t, 0) \\ &= (-\operatorname{cos} t, -\operatorname{sen} t, 0). \end{aligned}$$

Por otro lado, el vector tangente unitario a la curva en $(a \operatorname{cos} t, a \operatorname{sen} t, bt)$ es

$$\mathbf{t} = \frac{\mathbf{x}'(t)}{\|\mathbf{x}'(t)\|} = \frac{(-a \operatorname{sen} t, a \operatorname{cos} t, b)}{\sqrt{(-a \operatorname{sen} t)^2 + (a \operatorname{cos} t)^2 + b^2}} = \frac{1}{\sqrt{a^2 + b^2}} (-a \operatorname{sen} t, a \operatorname{cos} t, b).$$

Por tanto, el vector binormal es

$$\mathbf{b} = \mathbf{t} \times \mathbf{n} = \frac{1}{\sqrt{a^2 + b^2}} (-a \operatorname{sen} t, a \operatorname{cos} t, b) \times (\operatorname{cos} t, \operatorname{sen} t, 0)$$

**CLASES PARTICULARES, TUTORÍAS TÉCNICAS ONLINE
LLAMA O ENVÍA WHATSAPP: 689 45 44 70**

**ONLINE PRIVATE LESSONS FOR SCIENCE STUDENTS
CALL OR WHATSAPP:689 45 44 70**

Cartagena99

El triedro de Frenet está formado por los vectores:

$$\begin{aligned} \mathbf{t} &= \frac{1}{\sqrt{a^2 + b^2}} (-a \operatorname{sen} t, a \operatorname{cos} t, b), \\ \mathbf{n} &= (-\operatorname{cos} t, -\operatorname{sen} t, 0), \\ \mathbf{b} &= \frac{1}{\sqrt{a^2 + b^2}} (b \operatorname{sen} t, -b \operatorname{cos} t, a). \end{aligned}$$

Para $t = 0$, tenemos

$$\begin{aligned} \mathbf{t}(0) &= \frac{1}{\sqrt{a^2 + b^2}} (-a \operatorname{sen} 0, a \operatorname{cos} 0, b) = \frac{1}{\sqrt{a^2 + b^2}} (0, a, b), \\ \mathbf{n}(0) &= (-\operatorname{cos} 0, -\operatorname{sen} 0, 0) = (-1, 0, 0), \\ \mathbf{b}(0) &= \frac{1}{\sqrt{a^2 + b^2}} (b \operatorname{sen} 0, -b \operatorname{cos} 0, a) = \frac{1}{\sqrt{a^2 + b^2}} (0, -b, a). \end{aligned}$$

Por eso, el triedro de Frenet es

$$\left\{ \frac{1}{\sqrt{a^2 + b^2}} (0, a, b), (-1, 0, 0), \frac{1}{\sqrt{a^2 + b^2}} (0, -b, a) \right\}.$$

b) Para calcular la curvatura, hacemos primero:

$$\begin{aligned} \|\mathbf{x}'(t)\| &= \sqrt{(-a \operatorname{sen} t)^2 + (a \operatorname{cos} t)^2 + b^2} = \sqrt{a^2 + b^2}, \\ \|\mathbf{x}''(t)\| &= \sqrt{(-a \operatorname{sen} t)^2 + (-a \operatorname{cos} t)^2} = a. \end{aligned}$$

Entonces, la curvatura es

$$\begin{aligned} k(t) &= \frac{\|\mathbf{x}'(t) \times \mathbf{x}''(t)\|}{\|\mathbf{x}'(t)\|^3} \\ &= \frac{1}{\sqrt{a^2 + b^2}^3} \|(ab \operatorname{sen} t, -ab \operatorname{cos} t, a^2)\| = \frac{a\sqrt{a^2 + b^2}}{\sqrt{a^2 + b^2}^3} \\ &= \frac{a}{a^2 + b^2}, \end{aligned}$$

porque

$$\begin{vmatrix} i & j & k \\ ab \operatorname{sen} t & -ab \operatorname{cos} t & a^2 \end{vmatrix}$$

**CLASES PARTICULARES, TUTORÍAS TÉCNICAS ONLINE
LLAMA O ENVÍA WHATSAPP: 689 45 44 70**

**ONLINE PRIVATE LESSONS FOR SCIENCE STUDENTS
CALL OR WHATSAPP:689 45 44 70**



c) Sabemos que la torsión es, para una parametrización arbitraria:

$$\tau(t) = -\frac{\det(\mathbf{x}'(t), \mathbf{x}''(t), \mathbf{x}'''(t))}{\|\mathbf{x}'(t) \times \mathbf{x}''(t)\|^2}.$$

Como

$$\begin{aligned}\mathbf{x}'(t) &= (-a \operatorname{sen} t, a \operatorname{cos} t, b), \\ \mathbf{x}''(t) &= (-a \operatorname{cos} t, -a \operatorname{sen} t, 0), \\ \mathbf{x}'''(t) &= (a \operatorname{sen} t, -a \operatorname{cos} t, 0), \\ \mathbf{x}'(t) \times \mathbf{x}''(t) &= (ab \operatorname{sen} t, -ab \operatorname{cos} t, a^2), \\ \|\mathbf{x}'(t) \times \mathbf{x}''(t)\| &= a\sqrt{a^2 + b^2}\end{aligned}$$

entonces:

$$\begin{aligned}\det(\mathbf{x}'(t), \mathbf{x}''(t), \mathbf{x}'''(t)) &= \begin{vmatrix} -a \operatorname{sen} t & a \operatorname{cos} t & b \\ -a \operatorname{cos} t & -a \operatorname{sen} t & 0 \\ a \operatorname{sen} t & -a \operatorname{cos} t & 0 \end{vmatrix} \\ &= a^2 b \operatorname{sen}^2 t + a^2 b \operatorname{cos}^2 t \\ &= a^2 b.\end{aligned}$$

Y:

$$\tau(t) = -\frac{a^2 b}{(a\sqrt{a^2 + b^2})^2} = -\frac{b}{a^2 + b^2}.$$

13. Determine la ecuación de la recta normal y del plano normal y osculador a la hélice de ecuaciones $\alpha(t) = (2 \operatorname{cos} t, 2 \operatorname{sen} t, t)$ en el punto $(2, 0, 0)$.

Solución: El plano normal es el plano perpendicular a la recta tangente y el plano osculador es el plano que pasa por el punto y cuyo vector característico es el binormal, es decir $\mathbf{t} \times \mathbf{n}$. Para esta representación, tenemos

$$\begin{aligned}\mathbf{x}'(t) &= (-2 \operatorname{sen} t, 2 \operatorname{cos} t, 1), \\ \|\mathbf{x}'(t)\| &= \sqrt{(-2 \operatorname{sen} t)^2 + (2 \operatorname{cos} t)^2 + 1} = \sqrt{5}, \\ \mathbf{x}''(t) &= (-2 \operatorname{cos} t, -2 \operatorname{sen} t, 0),\end{aligned}$$

CLASES PARTICULARES, TUTORÍAS TÉCNICAS ONLINE
LLAMA O ENVÍA WHATSAPP: 689 45 44 70

ONLINE PRIVATE LESSONS FOR SCIENCE STUDENTS
CALL OR WHATSAPP:689 45 44 70



Por eso, el vector tangente es

$$\mathbf{t}(0) = \frac{\mathbf{x}'(0)}{\|\mathbf{x}'(0)\|} = \frac{1}{\sqrt{5}}(0, 2, 1).$$

El plano normal tiene la ecuación

$$\begin{aligned} \mathbf{t}(0) \cdot (\mathbf{x} - \mathbf{x}(0)) &= 0 \iff \frac{1}{\sqrt{5}}(0, 2, 1) \cdot (x - 2, y, z) = 0 \\ &\iff \frac{2}{\sqrt{5}}y + \frac{1}{\sqrt{5}}z = 0 \iff 2y + z = 0. \end{aligned}$$

Un vector en la misma dirección y sentido que el normal es

$$\begin{aligned} \mathbf{v}(0) &= (\mathbf{x}'(0) \times \mathbf{x}''(0)) \times \mathbf{x}'(0) = ((0, 2, 1) \times (-2, 0, 0)) \times (0, 2, 1) \\ &= \begin{vmatrix} i & j & k \\ 0 & 2 & 1 \\ -2 & 0 & 0 \end{vmatrix} \times (0, 2, 1) = (0, -2, 4) \times (0, 2, 1) \\ &= \begin{vmatrix} i & j & k \\ 0 & -2 & 4 \\ 0 & 2 & 1 \end{vmatrix} = -10i. \end{aligned}$$

El vector normal es $\mathbf{n} = (-1, 0, 0)$. La ecuación de la recta normal es

$$\begin{aligned} \mathbf{x} = (x, y, z) &= \mathbf{x}(0) + t\mathbf{n}(0) = (2, 0, 0) + t(-1, 0, 0) \\ &= (2 - t, 0, 0). \end{aligned}$$

Entonces

$$\begin{aligned} \mathbf{t} \times \mathbf{n} &= \frac{1}{\sqrt{5}}(0, 2, 1) \times (-1, 0, 0) = \begin{vmatrix} i & j & k \\ 0 & \frac{2}{\sqrt{5}} & \frac{1}{\sqrt{5}} \\ -1 & 0 & 0 \end{vmatrix} \\ &= -\frac{1}{\sqrt{5}}j + \frac{2}{\sqrt{5}}k = \left(0, -\frac{1}{\sqrt{5}}, \frac{2}{\sqrt{5}}\right) \end{aligned}$$

y la ecuación del plano osculador es

**CLASES PARTICULARES, TUTORÍAS TÉCNICAS ONLINE
LLAMA O ENVÍA WHATSAPP: 689 45 44 70**

**ONLINE PRIVATE LESSONS FOR SCIENCE STUDENTS
CALL OR WHATSAPP:689 45 44 70**



14. Sea la curva dada por la intersección de las superficies $z = x^2 + y$, $x + z = 2$. Determínese b y c para que el vector $(3, b, c)$ pertenezca al plano normal a la curva en el punto $P = (1, 0, 1)$ y forme con el vector $(-1, 0, -1)$ y el vector tangente a la curva en P una base ortogonal de \mathbb{R}^3 .

Solución: $b = 2, c = -3$.

Unas ecuaciones paramétricas de la curva se obtienen haciendo $x = u$ y despejando y, z , con lo cual resulta

$$x = u, y = 2 - u - u^2, z = 2 - u.$$

El punto dado es la imagen de $u = 1$ por lo tanto $\mathbf{x}(u) = (u, 2 - u - u^2, 2 - u)$ y $\mathbf{x}'(u) = (1, -1 - 2u, -1)$ es el vector tangente y para $u = 1$, tenemos

$$\mathbf{x}'(1) = (1, -3, -1).$$

Nótese que $(1, -3, -1) \cdot (-1, 0, -1) = 0$.

Se trata de encontrar un vector $(3, b, c)$ cuyo producto escalar con $(-1, 0, -1)$ y con $(1, -3, -1)$ sea cero. Entonces

$$\begin{aligned} (3, b, c) \cdot (-1, 0, -1) = 0, & \Rightarrow -3 - c = 0, \Rightarrow c = -3, b = 2. \\ (3, b, c) \cdot (1, -3, -1) = 0, & \Rightarrow 3 - 3b - c = 0, \end{aligned}$$

15. Sea la curva de ecuaciones

$$x = t^2, y = t^2 + 1, z = t - 1, t \in \mathbb{R}.$$

Determínense las ecuaciones de los planos osculador, normal y rectificante en el punto $(0, 1, -1)$.

Solución: El punto $(0, 1, -1)$ es la imagen de $t = 0$. Para esta parametrización tenemos:

$$\begin{aligned} \mathbf{x}'(t) &= (2t, 2t, 1), & \mathbf{x}''(t) &= (2, 2, 0), \\ \mathbf{x}'(0) &= (0, 0, 1), & \mathbf{x}''(0) &= (2, 2, 0). \end{aligned}$$

Sabemos que el vector

$$\mathbf{v} = (\mathbf{x}'(0) \times \mathbf{x}''(0)) \times \mathbf{x}'(0) = ((0, 0, 1) \times (2, 2, 0)) \times (0, 0, 1)$$

CLASES PARTICULARES, TUTORÍAS TÉCNICAS ONLINE
LLAMA O ENVÍA WHATSAPP: 689 45 44 70

ONLINE PRIVATE LESSONS FOR SCIENCE STUDENTS
CALL OR WHATSAPP: 689 45 44 70

Cartagena99

El vector tangente unitario a la curva en $(0, 1, -1)$ es

$$\mathbf{t} = \frac{\mathbf{x}'(0)}{\|\mathbf{x}'(0)\|} = (0, 0, 1).$$

Por tanto, el vector binormal es

$$\mathbf{b} = \mathbf{t} \times \mathbf{n} = (0, 0, 1) \times \frac{1}{\sqrt{2}}(1, 1, 0) = \frac{1}{\sqrt{2}}(-1, 1, 0).$$

El triedro de Frenet es

$$\left\{ (0, 0, 1), \frac{1}{\sqrt{2}}(1, 1, 0), \frac{1}{\sqrt{2}}(-1, 1, 0) \right\}.$$

El plano osculador es

$$\begin{aligned} ((x, y, z) - (0, 1, -1)) \cdot \frac{1}{\sqrt{2}}(-1, 1, 0) &= 0 \\ \iff (x, y - 1, z + 1) \cdot (-1, 1, 0) &= 0 \\ \iff x - y + 1 &= 0. \end{aligned}$$

La ecuación del plano normal es:

$$\begin{aligned} ((x, y, z) - (0, 1, -1)) \cdot (0, 0, 1) &= 0 \\ \iff (x, y - 1, z + 1) \cdot (0, 0, 1) &= 0 \\ \iff z + 1 &= 0. \end{aligned}$$

La ecuación del plano rectificante es:

$$\begin{aligned} ((x, y, z) - (0, 1, -1)) \cdot \frac{1}{\sqrt{2}}(1, 1, 0) &= 0 \\ \iff (x, y - 1, z + 1) \cdot (1, 1, 0) &= 0 \\ \iff x + y - 1 &= 0. \end{aligned}$$



**CLASES PARTICULARES, TUTORÍAS TÉCNICAS ONLINE
LLAMA O ENVÍA WHATSAPP: 689 45 44 70**

**ONLINE PRIVATE LESSONS FOR SCIENCE STUDENTS
CALL OR WHATSAPP:689 45 44 70**