

MÉTODOS MATEMÁTICOS I
Curso 2013–14

Tema 1

1. Expresar los siguientes números complejos en la forma $x + yi$:

a) $(2 + 3i) + (4 + i)$; b) $(2 + 3i)(4 + i)$; c) $\frac{2 + 3i}{4 + i}$; d) $(2 + 3i)^3$; e) $\frac{3i^{30} - i^{19}}{2i - 1}$;
f) $(1 + i)^{25}$; g) $\frac{(-1 + i\sqrt{3})^{15}}{(1 - i)^{20}} + \frac{(-1 - i\sqrt{3})^{15}}{(1 + i)^{20}}$.

2. Resolver la ecuación $z^2 - 8iz - (19 - 4i) = 0$.

3. Expresar $\cos 5x$ y $\sin 5x$ en función de $\cos x$ y $\sin x$.

4. Calcular todos los valores de: a) $\sqrt{1 - i}$; y b) $\sqrt[6]{-8}$.

5. Demostrar la identidad de Lagrange,

$$1 + \cos \theta + \cos 2\theta + \dots + \cos n\theta = \frac{1}{2} + \frac{\sin \left[\left(n + \frac{1}{2} \right) \theta \right]}{2 \sin(\theta/2)}.$$

¿Qué ocurre cuando $\sin(\theta/2) = 0$?

6. Desarrollar en serie de Fourier $\cos^4 \theta$.

7. Expresar en la forma $x + yi$: a) e^{2+i} ; b) $\sin(1 + i)$; c) $\cos(2 + 3i)$; y d) $\cot(\pi/4 - i \log 2)$.

8. Calcular todos los valores de: a) $\log(-i)$; b) $\log(1 + i)$; c) $(-i)^i$; d) 2^i ; y e) $\left(\frac{1 - i}{\sqrt{2}} \right)^{1+i}$.

9. Si $z = x + iy = re^{i\theta} \neq 0$, calcular todos los valores de: a) $|z^i|$; b) $|i^z|$; y c) $|z^z|$ en función de x , y , r y θ .

10. Resolver las siguientes ecuaciones: a) $\cos z = 4$; b) $\tan z = 3i/5$; c) $\tan z = i$; y d) $\sin z + \cos z = i\sqrt{2}$.

11. Demostrar que si f es una función analítica y una cualquiera de las funciones $\operatorname{Re} f$, $\operatorname{Im} f$, $|f|$ ó $\operatorname{Arg} f$ es constante, entonces f es constante.

12. Encontrar todas las funciones analíticas cuya parte real es de la forma $u(x, y) = ax^3 + bx^2y + cxy^2 + dy^3$, donde a, b, c y d son constantes reales. Expresar el resultado en función de z .

13. Encontrar todas las funciones analíticas $f(z)$ cuya parte real es de la forma $g(x) \cos y$, expresando el resultado en función de la variable compleja $z = x + iy$.

Tema 2

14. Calcular las siguientes integrales:

a) $\int_{|z|=1} \frac{dz}{z}$; b) $\int_{|z|=1} \frac{dz}{|z|}$; c) $\int_{|z|=1} \frac{|dz|}{z}$; d) $\int_{|z|=1} \left| \frac{dz}{z} \right|$.

15. Calcular las siguientes integrales:

- a) $\int_{\gamma} (z^3 + 3) dz$, donde γ es la mitad superior de la circunferencia unidad (orientada positivamente);
 b) $\int_{\gamma} e^{1/z} dz$, donde γ es la circunferencia de radio 3 centrada en $1 + 5i$;
 c) $\int_{\gamma} z^2(z - 1)^{-1} dz$, donde γ es la circunferencia de centro 0 y radio 2;
 d) $\int_{\gamma} z^{-3} dz$, donde γ es el cuadrado de vértices $-1 - i$, $1 - i$, $1 + i$, y $-1 + i$;
 e) $\int_{\gamma} z^{-4} \operatorname{sen} z dz$, donde γ es la circunferencia unidad;
 f) $\int_{|z|=2} z^{-2} |z| e^z dz$.

16. Sea f analítica en el disco $|z| < R$ con $R > 1$. Calcular $\int_0^{2\pi} f(e^{i\theta}) \cos^2(\theta/2) d\theta$ en función de f y sus derivadas evaluadas en el origen.

17. Sea f una función entera tal que $|f(z)| \geq 1$ en todo el plano complejo. Demostrar que f es constante.

Tema 3

18. Estudiar la convergencia de las siguientes series:

a) $\sum_{n=0}^{\infty} \frac{\cos(in)}{2^n}$; b) $\sum_{n=0}^{\infty} \frac{n \operatorname{sen}(in)}{3^n}$; c) $\sum_{n=2}^{\infty} \frac{i^n}{\log n}$; d) $\sum_{n=1}^{\infty} e^{(1+in)^2}$; e) $\sum_{n=1}^{\infty} \frac{1}{\sqrt{n}} \left(\frac{3+4i}{5+12i} \right)^n$.

19. Encontrar un dominio en el que la función $f(z) = \sum_{n=1}^{\infty} (2z - 1)^n / n$ sea analítica.

20. Calcular el radio de convergencia de cada una de las siguientes series de potencias:

a) $\sum_{n=0}^{\infty} n z^n$; b) $\sum_{n=0}^{\infty} z^n e^{-n}$; c) $\sum_{n=1}^{\infty} n! n^{-n} z^n$; d) $\sum_{n=1}^{\infty} n^{-1} z^n$.

21. Calcular los desarrollos en serie de Taylor de las siguientes funciones en torno al punto z_0 indicado, especificando los correspondientes radios de convergencia: a) e^z , $z_0 = 1$; b) z^{-1} , $z_0 = 1$; c) $z^2 e^z$, $z_0 = 0$; d) $e^z \operatorname{sen} z$, $z_0 = 0$; e) e^{z^2} , $z_0 = 0$; y f) $(z - 1)^{-1} (z - 2)^{-1}$, $z_0 = 0$.

22. Calcular los tres primeros términos no nulos del desarrollo en serie de Taylor de $\tan z$ en $z_0 = 0$.

23. Calcular los tres primeros términos no nulos del desarrollo en serie de Taylor centrado en el origen de la función $f(z) = \operatorname{Log}(\cos z)$.

24. Calcular los tres primeros coeficientes no nulos y el radio de convergencia del desarrollo en serie de Taylor centrado en el origen de la función $f(z) = \sqrt{\cos z}$, considerando únicamente la determinación principal de la raíz.

25. Encontrar las coronas de convergencia de las siguientes series de Laurent:

a) $\sum_{n=-\infty}^{\infty} i^n z^n$; b) $\sum_{n=0}^{\infty} \frac{z^n}{n!} + \sum_{n=-\infty}^{-1} 2^n z^n$; c) $\frac{27}{35z^4} - \frac{1}{z^2} + \sum_{n=0}^{\infty} \frac{z^n}{n!}$;
 d) $z + \sum_{n=-\infty}^{-1} (-n)! z^n$; e) $\sum_{n=-\infty}^{\infty} \frac{z^n}{2^n + 3^n}$.

26. Calcular los desarrollos en serie de Laurent de las siguientes funciones en las coronas que se indican:

- a) $\operatorname{sen}(z^{-1})$, $0 < |z| < \infty$; b) $\frac{z}{z+1}$, $0 < |z| < 1$; c) $\frac{z}{z+1}$, $1 < |z| < \infty$;
 d) $\frac{e^z}{z^2}$, $0 < |z| < \infty$; e) $\frac{1}{z(z-1)(z-2)}$, $0 < |z| < 1$; f) $\frac{1}{z(z-1)(z-2)}$, $1 < |z| < 2$;
 g) $\frac{1}{z(z-1)(z-2)}$, $|z| > 2$.

27. Calcular el desarrollo de Laurent de la función $f(z) = \frac{3(z-1)}{(2z-1)(z-2)}$ en la corona $\frac{1}{2} < |z-1| < 1$.

28. Calcular los tres primeros términos no nulos del desarrollo en serie de Laurent de la función $f(z) = 1/(z^2 \operatorname{senh} z)$ en una corona de la forma $0 < |z| < R$. ¿Cuál es el mayor valor posible de R ?

29. Clasificar las singularidades de las siguientes funciones:

- a) $\frac{z}{(e^z-1)(e^z-2)}$; b) $\frac{(z-1)^2(z+3)}{1-\operatorname{sen}(\pi z/2)}$; c) $e^{z-\frac{1}{z}}$; d) $\frac{e^{1/(z-1)}}{e^z-1}$; e) $e^{\cot(z^{-1})}$.

Tema 4

30. Sea la función $f(z) = \frac{z+2}{z^2-4iz-3}$. i) Hallar el desarrollo de Laurent de f en la corona $1 < |z| < 3$.

ii) Calcular la integral $\int_{|z-3i|=1} f(z) dz$.

31. Calcular las siguientes integrales:

- a) $\int_{|z|=8} \tan z \, dz$ b) $\int_{|z|=3} (1+z+z^2) (e^{1/z} + e^{1/(z-1)} + e^{1/(z-5)}) \, dz$
 c) $\int_0^{2\pi} \frac{\cos(3\theta) \, d\theta}{5-4\cos\theta}$ d) $\int_0^{2\pi} \frac{d\theta}{(5-3\operatorname{sen}\theta)^2}$
 e) $\int_0^\infty \frac{x^2 \, dx}{(x^2+9)(x^2+4)^2}$ f) $\int_0^\infty \frac{\cos(2\pi x)}{x^4+x^2+1} \, dx$
 g) $\int_{-\infty}^\infty \frac{x \operatorname{sen}(3x) \cos(2x)}{x^2+1} \, dx$ h) $\int_{-\infty}^\infty \frac{x e^{i\omega x}}{(x^2+1)^2} \, dx, \quad \omega \in \mathbb{R}$
 i) $\int_{|z-1|=3} z^3 \cos\left(\frac{1}{z-2}\right) \, dz$ j) $\int_{-\infty}^\infty \frac{e^{i\omega x}}{x^2-3ix-2} \, dx, \quad \omega \in \mathbb{R}$
 k) $\int_{-\infty}^\infty \frac{x \operatorname{sen} \omega x}{x^4+1} \, dx, \quad \omega \in \mathbb{R}$

Tema 5

32. Integrar las ecuaciones siguientes:

- a) $(5x + 2y - 3)y' = 9 - 12x - 5y$; b) $y' = e^{x-y}$; c) $y' = y + \operatorname{sen} x$; d) $y' = \frac{2xy-y^2}{x^2}$;
e) $y' = \cos x - y - y^2 \frac{\operatorname{sen} x}{\cos^2 x}$; f) $y' = \frac{x+2y}{x}$; g) $y' = \frac{y}{x+y^3}$; h) $y' = x + \frac{x}{y}$;
i) $y' = 1 - \frac{2}{x+y}$; j) $(y')^2 = 9y^4$.

33. Sea la ecuación $3y^2 - x + 2y(y^2 - 3x)y' = 0$. i) Hallar un factor integrante de la forma $\mu(x + y^2)$. ii) Determinar la solución general de la ecuación.

34. Comprobar que una ecuación de la forma $y' = x^{n-1} f(y + ax^n)$ se convierte en una de variables separadas haciendo el cambio $z = y + ax^n$. Hallar por este método la solución general de $y' = 2x(y + x^2)^2$.

35. Hallar la solución general y discutir la existencia y unicidad de soluciones de las siguientes ecuaciones:

- a) $y' = (x - 4y)^{-2}$; b) $y' = \frac{y-y^2}{x}$; c) $y' = \frac{3xy+2y^2}{x^2+xy}$; d) $y' = 1 - y^{-2}$; e) $y' = \frac{x}{y} - xy$;
f) $y' = 1 + y^{2/3}$.

36. Integrar la ecuación diferencial $y' = y \frac{y+2x-1}{x+y}$. ¿Cuántas soluciones verifican $y(0) = 0$?

37. Sea la ecuación diferencial $y' = \frac{y}{x} + e^{-y/x}$. i) Calcular su solución general. ii) Hallar las soluciones que pasan por el punto $(e, 0)$ y las que lo hacen por $(1, 1)$.

38. Sea la ecuación $y' = 1 + \frac{2}{y-x}$. i) Hallar su solución general. ii) Determinar todas las soluciones que satisfacen $y(1) = -1$. iii) Dibujar aproximadamente sus curvas integrales.

39. Sea la familia de hipérbolas $xy = c$. Escribir la ecuación diferencial de la que son curvas integrales. Hallar las trayectorias ortogonales a ellas (las curvas que las cortan perpendicularmente). Resolver el mismo problema para las circunferencias $x^2 + y^2 = 2cx$ y las parábolas $y^2 + 2cx = c^2$.

40. Sea la ecuación $xy' = (1-x)y + x^2$. i) Hallar su solución general. ii) Para todo $(x_0, y_0) \in \mathbb{R}^2$, discutir cuántas soluciones cumplen la condición inicial $y(x_0) = y_0$. iii) Localizar los puntos del plano en los que $y'' = 0$.

41. Resolver la ecuación diferencial

$$y' = \frac{3y}{x} + 3(x^2 + 1)y^{2/3}.$$

Determinar por cuáles de los siguientes puntos del plano pasa una única curva integral de la ecuación: a) $(1, 1)$; b) $(-1, 1)$; c) $(1, 0)$; d) $(0, 1)$.

42. Sea la ecuación diferencial $y' = \frac{y^2}{2x(y-x)}$. i) Hallar su solución general. ii) Hallar las soluciones que verifican $y(1) = 0$ e $y(1) = 2$. iii) Determinar por qué puntos del plano pasa una única curva integral.

Temas 6 y 7

43. Escribir la solución general de las siguientes ecuaciones diferenciales:

- a) $u'' - u = e^{2x}$; b) $u'' + u = xe^x \cos x$; c) $u'' + u = \tan x$; d) $u''' + 2u'' + 5u' = 5x$;
e) $u^{(4)} + 4u = xe^x \cos x$; f) $(x+1)u'' - u' = (x+1)^2$; g) $x^2u'' - 2u = x^3e^x$;
h) $x^2u'' - x(x+2)u' + (x+2)u = 0$.

44. Hallar las soluciones de los problemas de valores iniciales siguientes:

$$\begin{array}{ll} \text{a) } \begin{cases} u''' + 5u'' + 8u' + 4u = -8e^{-2x} \\ u(0) = 1, u'(0) = -1, u''(0) = 9 \end{cases} & \text{b) } \begin{cases} u'' + u' = f(x) \\ u(0) = -1, u'(0) = 0, \end{cases} \quad f(x) = \begin{cases} x + 1, & x \leq 1 \\ 3 - x, & x \geq 1 \end{cases} \\ \text{c) } \begin{cases} x^3 u''' + x^2 u'' - 2x u' + 2u = 2x^4 \\ u(1) = u'(1) = u''(1) = 0 \end{cases} & \text{d) } \begin{cases} x u'' - (x + 1) u' + u = x^2 e^x \\ u(1) = u'(1) = 0 \end{cases} & \text{e) } \begin{cases} u'' + 2x u' = 2x \\ u(1) = u'(1) = 1. \end{cases} \end{array}$$

45. Sea la ecuación $u''' + 5u'' + 4u' + cu = x$. i) Hallar una solución particular para todo valor de la constante real c . ii) Hallar la solución general para $c = -10$.

46. Considérese la ecuación $u''' + 2u'' + (1 + a)u' + 4a^2u = e^{-x}$, con $a \in \mathbb{R}$. i) Para $a = 0$, hallar la solución que satisface $u(0) = u'(0) = 0$, $u''(0) = -1$. ii) Hallar una solución particular de la ecuación para $a \neq 0$.

47. Hallar la solución general de la ecuación $u^{(4)} - 2u''' + 2u'' - 2u' + u = 2 \cosh x$.

48. Resolver la ecuación de tercer orden

$$x^3 u''' - 3x^2 u'' - x(x^2 - 6)u' + (x^2 - 6)u = 0.$$

49. Resolver la ecuación diferencial

$$uu'' - u'^2 = u',$$

efectuando el cambio de variable $u' = v(u)$.

50. Resolver los problemas de valores iniciales siguientes:

$$\text{a) } y' = \begin{pmatrix} -2 & 1 \\ 1 & -2 \end{pmatrix} y, \quad y(0) = \begin{pmatrix} 1 \\ 0 \end{pmatrix}; \quad \text{b) } y' = \begin{pmatrix} 3 & -4 \\ 1 & -1 \end{pmatrix} y, \quad y(0) = \begin{pmatrix} 1 \\ 0 \end{pmatrix}; \quad \text{c) } y' = \begin{pmatrix} 0 & 1 & -2 \\ 0 & 0 & -1 \\ 4 & 0 & -5 \end{pmatrix} y, \quad y(0) = \begin{pmatrix} 0 \\ 0 \\ 1 \end{pmatrix}.$$

51. Hallar la solución general de los siguientes sistemas:

$$\text{a) } \begin{cases} y_1' = y_1 + y_2 + y_3 \\ y_2' = 2y_1 + y_2 - y_3 \\ y_3' = -y_2 + y_3 \end{cases} \quad \text{b) } \begin{cases} y_1' = y_2 + y_3 \\ y_2' = y_1 + y_3 \\ y_3' = y_1 + y_2 \end{cases} \quad \text{c) } \begin{cases} y_1' = y_1 \\ y_2' = y_1 + 2y_2 \\ y_3' = y_1 - y_3. \end{cases}$$

52. Hallar la solución del problema de valores iniciales

$$\begin{cases} x' = x - 4y + 2z \\ y' = x - 3y + z \\ z' = x - 2y + 1 \\ x(0) = 2, \quad y(0) = z(0) = 1. \end{cases}$$

53. Hallar la solución de los problemas de valores iniciales siguientes:

$$\text{a) } \begin{cases} x' = x - 2y - t \\ y' = 2x - 3y - t \\ x(0) = y(0) = 1 \end{cases} \quad \text{b) } \begin{cases} x' = 2x + y \\ y' = 3x + 4te^{3t} \\ x(0) = y(0) = 1 \end{cases} \quad \text{c) } \begin{cases} x' = -x - y \\ y' = 2x - y \\ x(0) = 1, \quad y(0) = 2 \end{cases} \quad \text{d) } \begin{cases} x' = 2x - y \\ y' = x + |2 - t| \\ x(0) = 0, \quad y(0) = -1. \end{cases}$$

54. Considérese el sistema $y' = Ay + b(x)$ con $A = \begin{pmatrix} 0 & 0 & 1 & 0 \\ 0 & 0 & 0 & -1 \\ -1 & 0 & 0 & 0 \\ 0 & 1 & 0 & 0 \end{pmatrix}$ y $b(x) = \begin{pmatrix} -x^2 \\ 0 \\ 0 \\ 0 \end{pmatrix}$, y sea $y_0 = \begin{pmatrix} 1 \\ 0 \\ -2 \\ 0 \end{pmatrix}$.

Hallar la matriz fundamental $\Phi(x)$ del sistema homogéneo con $\Phi(0) = \mathbb{1}$, y la solución del inhomogéneo con $y(0) = y_0$.

55. Hallar la solución del sistema

$$\begin{cases} x' = 4y + z \\ y' = z - 4 \\ z' = 5z - 2x \end{cases}$$

que verifica $x(0) = -2$, $y(0) = 3$, $z(0) = 0$. [Ayuda: el sistema tiene una solución constante.]

56. Sea el sistema

$$y' = Ay, \quad A = \begin{pmatrix} 0 & 1 \\ \alpha & 1 - \alpha \end{pmatrix}, \quad \alpha \in \mathbb{R}.$$

Hallar la matriz fundamental canónica en el origen para *todos* los valores de α .

Soluciones Tema 1

1. a) $6 + 4i$; b) $5 + 14i$; c) $\frac{11}{17} + \frac{10}{17}i$; d) $-46 + 9i$; e) $1 + i$; f) $= 2^{12}(1 + i)$; g) -64 .
2. $-2 + 5i$, $2 + 3i$.
3. $\cos 5x = \cos^5 x - 10 \sin^2 x \cos^3 x + 5 \sin^4 x \cos x$, $\sin 5x = \sin^5 x + 5 \sin x \cos^4 x - 10 \sin^3 x \cos^2 x$.
4. a) $\pm \left(\sqrt{\frac{1 + \sqrt{2}}{2}} + i \sqrt{\frac{\sqrt{2} - 1}{2}} \right)$; b) $\frac{1}{\sqrt{2}} (\pm \sqrt{3} \pm i)$, $\pm \sqrt{2}i$.
6. $\cos^4 \theta = \frac{1}{8}(3 + 4 \cos 2\theta + \cos 4\theta)$.
7. a) $e^2(\cos 1 + i \sin 1)$; b) $\sin 1 \cosh 1 + i \sinh 1 \cos 1$; c) $\cos 2 \cosh 3 - i \sin 2 \sinh 3$; d) $\frac{8}{17} + \frac{15}{17}i$.
8. a) $-\frac{i\pi}{2} + 2n\pi i$; b) $\frac{1}{2} \log 2 + \frac{i\pi}{4} + 2n\pi i$; c) $e^{\frac{\pi}{2} + 2n\pi}$; d) $e^{2n\pi} e^{i \log 2}$; e) $\frac{1-i}{\sqrt{2}} e^{\frac{\pi}{4} + 2n\pi}$, donde $n \in \mathbb{Z}$ en todos los casos.
9. a) $e^{2n\pi - \theta}$; b) $e^{y(\frac{3\pi}{2} + 2n\pi)}$; c) $e^{x \log r + y(2n\pi - \theta)}$, donde $n \in \mathbb{Z}$ en todos los casos.
10. a) $\pm i \log(4 + \sqrt{15}) + 2n\pi$; b) $i \log 2 + n\pi$; c) no existe solución;
d) $i \log(\sqrt{2} + 1) - \frac{\pi}{4} + 2n\pi$, $i \log(\sqrt{2} - 1) + \frac{3\pi}{4} + 2n\pi$, donde $n \in \mathbb{Z}$ en todos los casos.
12. $c = -3a$, $b = -3d$, $f(z) = (a + id)z^3 + ik$, con $k \in \mathbb{R}$.
13. $f(z) = a e^z + b e^{-z} + ic$, con $a, b, c \in \mathbb{R}$.

Soluciones Tema 2

14. a) $2\pi i$; b) 0 ; c) 0 ; d) 2π .
15. a) -6 ; b) 0 ; c) $2\pi i$; d) 0 ; e) $-\frac{\pi i}{3}$; f) $4\pi i$.
16. $\pi(f(0) + \frac{1}{2} f'(0))$.

Soluciones Tema 3

18. a) diverge; b,d,e) convergen absolutamente; c) converge (pero *no* absolutamente).
19. $|z - \frac{1}{2}| < \frac{1}{2}$.
20. a), d) $R = 1$; b), c) $R = e$.
21. a) $e^z = \sum_{k=0}^{\infty} \frac{e}{k!} (z-1)^k$, $R = \infty$; b) $\frac{1}{z} = \sum_{k=0}^{\infty} (-1)^k (z-1)^k$, $R = 1$.

$$\text{c) } z^2 e^z = \sum_{k=2}^{\infty} \frac{z^k}{(k-2)!}, \quad R = \infty; \quad \text{d) } e^z \operatorname{sen} z = \sum_{k=0}^{\infty} 2^{\frac{k}{2}} \operatorname{sen} \left(\frac{k\pi}{4} \right) \frac{z^k}{k!}, \quad R = \infty;$$

$$\text{e) } e^{z^2} = \sum_{k=0}^{\infty} \frac{z^{2k}}{k!}, \quad R = \infty; \quad \text{f) } \frac{1}{(z-1)(z-2)} = \sum_{k=0}^{\infty} \left(1 - \frac{1}{2^{k+1}} \right) z^k, \quad R = 1.$$

$$22. \tan z = z + \frac{1}{3} z^3 + \frac{2}{15} z^5 + \dots, \quad |z| < \frac{\pi}{2}.$$

$$23. \operatorname{Log}(\cos z) = -\frac{1}{2} z^2 - \frac{1}{12} z^4 - \frac{1}{45} z^6 + \dots, \quad |z| < \frac{\pi}{2}.$$

$$24. \sqrt{\cos z} = 1 - \frac{z^2}{4} - \frac{z^4}{96} + \dots, \quad |z| < \frac{\pi}{2}.$$

$$25. \text{a) diverge para todo } z; \quad \text{b) } C\left(0; \frac{1}{2}, \infty\right); \quad \text{c) } \mathbb{C} - \{0\}; \quad \text{d) diverge para todo } z; \quad \text{e) } C(0; 2, 3).$$

$$26. \text{a) } \operatorname{sen}(z^{-1}) = \sum_{k=0}^{\infty} \frac{(-1)^k}{(2k+1)!} \frac{1}{z^{2k+1}}; \quad \text{b) } \frac{z}{z+1} = \sum_{k=1}^{\infty} (-1)^{k+1} z^k; \quad \text{c) } \frac{z}{z+1} = -\frac{1}{z+1} + 1;$$

$$\text{d) } \frac{e^z}{z^2} = \frac{1}{z^2} + \frac{1}{z} + \sum_{k=0}^{\infty} \frac{z^k}{(k+2)!}; \quad \text{e) } \frac{1}{z(z-1)(z-2)} = \frac{1}{2z} + \sum_{k=0}^{\infty} \left(1 - \frac{1}{2^{k+2}} \right) z^k;$$

$$\text{f) } \frac{1}{z(z-1)(z-2)} = -\sum_{k=2}^{\infty} \frac{1}{z^k} - \frac{1}{2z} - \sum_{k=0}^{\infty} \frac{z^k}{2^{k+2}}; \quad \text{g) } \frac{1}{z(z-1)(z-2)} = \sum_{k=3}^{\infty} \frac{2^{k-2} - 1}{z^k}.$$

$$27. \frac{3(z-1)}{(2z-1)(z-2)} = \sum_{k=1}^{\infty} \frac{(-1)^{k+1}}{2^k} \frac{1}{(z-1)^k} - \sum_{k=0}^{\infty} (z-1)^k.$$

$$28. \frac{1}{z^2 \operatorname{senh} z} = \frac{1}{z^3} - \frac{1}{6z} + \frac{7z}{360} + \dots, \quad 0 < |z| < \pi.$$

29. a) 0 (singularidad evitable), $2k\pi i$ con $0 \neq k \in \mathbb{Z}$ (polos simples), $\log 2 + 2k\pi i$ con $k \in \mathbb{Z}$ (polos simples);
 b) $4k+1$ con $k \in \mathbb{Z}$ (polos dobles si $k \neq 0, -1$, polo simple si $k = -1$, singularidad evitable si $k = 0$);
 c) 0 (singularidad esencial);
 d) 1 (singularidad esencial), $2k\pi i$ con $k \in \mathbb{Z}$ (polos simples);
 e) 0 (singularidad no aislada), $\frac{1}{k\pi}$ con $0 \neq k \in \mathbb{Z}$ (singularidades esenciales).

Soluciones Tema 4

$$30. \text{i) } f(z) = \left(i - \frac{1}{2} \right) \sum_{k=1}^{\infty} \frac{i^{k-1}}{z^k} + \left(i - \frac{3}{2} \right) \sum_{k=0}^{\infty} \frac{z^k}{3^{k+1} i^{k+1}}. \quad \text{ii) } \pi(2+3i).$$

$$31. \text{a) } -12\pi i; \quad \text{b) } \frac{38\pi i}{3}; \quad \text{c) } \frac{\pi}{12}; \quad \text{d) } \frac{5\pi}{32}; \quad \text{e) } \frac{\pi}{200}; \quad \text{f) } -\frac{\pi e^{-\sqrt{3}\pi}}{2\sqrt{3}}; \quad \text{g) } \frac{\pi}{2} \left(\frac{1}{e} + \frac{1}{e^5} \right);$$

$$\text{h) } \frac{i\pi\omega}{2} e^{-|\omega|}; \quad \text{i) } -\frac{143\pi i}{12}; \quad \text{j) } \begin{cases} 2\pi(e^{-2\omega} - e^{-\omega}), & \omega > 0, \\ 0, & \omega \leq 0; \end{cases} \quad \text{k) } \frac{\pi}{2} e^{-\omega} \operatorname{sen} \omega.$$

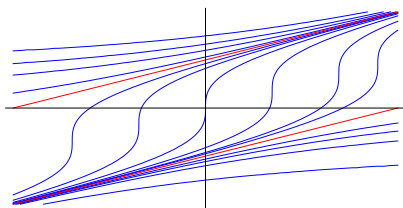
Soluciones Tema 5

32. a) $y^2 + 6x^2 + 5xy - 3y - 9x = c$; b) $y = \log(c + e^x)$; c) $y = ce^x - \frac{1}{2}(\operatorname{sen} x + \cos x)$;
d) $y = \frac{x^2}{c+x}$; e) $y = \cos x + \frac{2\cos^2 x}{ce^x - \cos x - \operatorname{sen} x}$; f) $y = cx^2 - x$; g) $x - cy - \frac{1}{2}y^3 = 0$;
h) $y - \frac{1}{2}x^2 - \log|1+y| = c$; i) $y - x + \log|x+y-1| = c$; j) $y = \frac{1}{c \pm 3x}$.

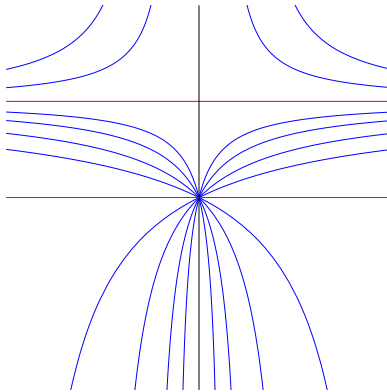
33. i) $\mu = \frac{1}{(x+y^2)^3}$. ii) $\frac{x-y^2}{(x+y^2)^2} = c$.

34. i) $\int \frac{dz}{f(z) + na} = \frac{x^n}{n} + c$. ii) $y = \tan(x^2 + c) - x^2$.

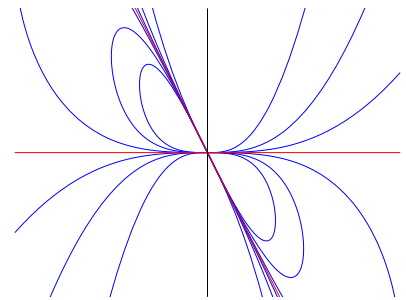
35. Como información adicional se ha incluido el dibujo de las curvas integrales.



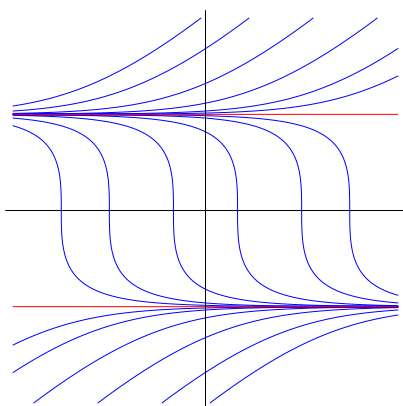
a) $4y + \log \left| \frac{x-4y+2}{x-4y-2} \right| = c$



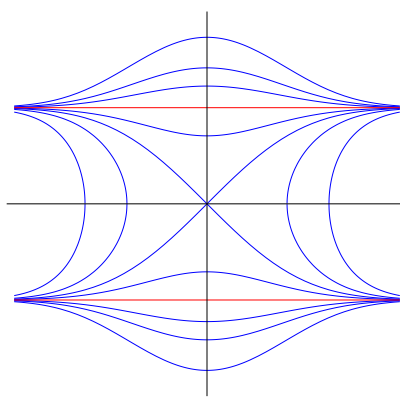
b) $y = \frac{x}{x+c}$



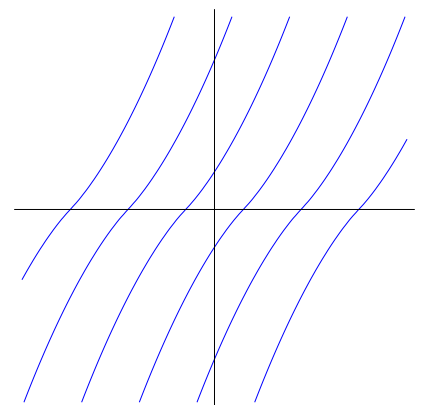
c) $y^2 + 2xy + cx^4 = 0$



d) $y + \frac{1}{2} \log \left| \frac{1-y}{1+y} \right| = x + c$



e) $y^2 = 1 + ce^{-x^2}$

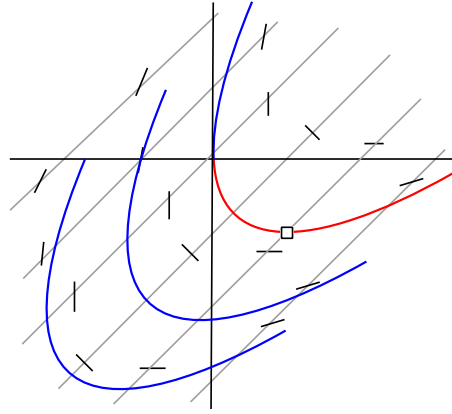


f) $y^{1/3} - \arctan y^{1/3} = \frac{x}{3} + c$

36. Solución general: $y^2 + 2xy - ce^{2x} = 0$. Las soluciones que verifican $y(0) = 0$ son $y(x) = 0$ e $y(x) = -2x$.

37. i) $y = x \log(\log|x| + c)$. ii) $(e, 0)$: $y = x \log(\log|x|)$; $(1, 1)$: $y = x \log(\log|x| + e)$.

38. $y = x \pm 2\sqrt{x+c}$. ii) $y = x - 2\sqrt{x}$



39. $xy = c \Rightarrow y + xy' = 0$. Trayectorias ortogonales: $y' = \frac{x}{y} \Rightarrow x^2 - y^2 = k$.
 $x^2 + y^2 = 2cx \Rightarrow y' = \frac{y^2 - x^2}{2xy}$. Trayectorias ortogonales: $y' = \frac{2xy}{x^2 - y^2} \Rightarrow x^2 + y^2 = ky$.
 $y^2 + 2cx = c^2 \Rightarrow yy' = -x \pm \sqrt{y^2 + x^2}$. Trayectorias ortogonales: $y' = \frac{y}{x \pm \sqrt{y^2 + x^2}} \Rightarrow y^2 + 2kx = k^2$.
40. i) $y = x(1 + ce^{-x})$. ii) Solución única si $x_0 \neq 0$, infinitas soluciones si $x_0 = y_0 = 0$, ninguna solución si $x_0 = 0, y_0 \neq 0$. iii) $y = x$ (recta solución), $x = 2$ (curva de puntos de inflexión).
41. Solución general: $y = x^3 \left(\frac{x^2}{2} + \log|x| + c \right)^3$ ($c \in \mathbb{R}$), $y \equiv 0$. Curva integral única: $(1, 1)$, $(-1, 1)$ y $(0, 1)$.
42. i) Solución general: $y(y - 2x) = cx$. ii) $y(1) = 0: y = 0$; $y(1) = 2: y = 2x$. iii) Por cada punto del plano salvo el origen pasa una única curva integral, mientras que por el origen pasan infinitas.

Soluciones Temas 6 y 7

43. a) $u = c_1 e^x + c_2 e^{-x} + \frac{1}{3} e^{2x}$;
 b) $u = c_1 \cos x + c_2 \operatorname{sen} x + \frac{1}{25} [(5x - 2) \cos x + (10x - 14) \operatorname{sen} x] e^x$;
 c) $u = c_1 \cos x + c_2 \operatorname{sen} x - \cos x \log|\sec x + \tan x|$;
 d) $u = c_1 + (c_2 \cos 2x + c_3 \operatorname{sen} 2x) e^{-x} + \frac{x^2}{2} - \frac{2x}{5}$;
 e) $u = (c_1 \cos x + c_2 \operatorname{sen} x) e^x + (c_3 \cos x + c_4 \operatorname{sen} x) e^{-x} + \frac{x}{32} [(3 - x) \cos x + x \operatorname{sen} x] e^x$;
 f) $u = c_1(x^2 + 2x) + c_2 + \frac{x^3}{3} + \frac{x^2}{2}$;
 g) $u = c_1 x^2 + c_2 \frac{1}{x} + (x - 2 + \frac{2}{x}) e^x$;
 h) $u = c_1 x + c_2 x e^x$.
44. a) $u(x) = e^{-x} + 4x^2 e^{-2x}$; b) $u(x) = \begin{cases} \frac{1}{2} x^2 - 1, & x \leq 1 \\ -\frac{1}{2} x^2 + 4x - 6 + 2e^{1-x}, & x \geq 1; \end{cases}$
 c) $u(x) = \frac{1}{15} (x^4 - 5x^2 + 5x - \frac{1}{x})$; d) $u(x) = (x + 1)e + \frac{1}{2} (x^2 - 5)e^x$; e) $u(x) = x$.
45. i) $u_p = \begin{cases} \frac{x}{c} - \frac{4}{c^2}, & c \neq 0 \\ \frac{x^2}{8} - \frac{5x}{16}, & c = 0. \end{cases}$ ii) $u = c_1 e^x + e^{-3x} (c_2 \cos x + c_3 \operatorname{sen} x) - \frac{x}{10} - \frac{1}{25}$.
46. i) $u = -\frac{1}{2} x^2 e^{-x}$. ii) $u_p = \begin{cases} 4x e^{-x}, & a = \frac{1}{4} \\ \frac{e^{-x}}{a(4a - 1)}, & a \neq 0, \frac{1}{4}. \end{cases}$

47. $u(x) = e^x \left(c_1 + c_2 x + \frac{x^2}{4} \right) + c_3 \cos x + c_4 \operatorname{sen} x + \frac{e^{-x}}{8}.$

48. $u(x) = x(c_1 + c_2 e^x + c_3 e^{-x}).$

49. $u = c_1 e^{c_2 x} + \frac{1}{c_2}.$

50. a) $y(x) = \frac{1}{2} \begin{pmatrix} e^{-x} + e^{-3x} \\ e^{-x} - e^{-3x} \end{pmatrix}$ b) $y(x) = e^x \begin{pmatrix} 1 + 2x \\ x \end{pmatrix}$ c) $y(x) = \begin{pmatrix} e^{-x} - e^{-2x} - 3xe^{-2x} \\ e^{-x} - e^{-2x} - 2xe^{-2x} \\ e^{-x} - 4xe^{-2x} \end{pmatrix}.$

51. a) $y = c_1 \begin{pmatrix} 3 \\ -4 \\ -2 \end{pmatrix} e^{-x} + c_2 \begin{pmatrix} 0 \\ 1 \\ -1 \end{pmatrix} e^{2x} + c_3 \begin{pmatrix} 1 \\ 1+x \\ -x \end{pmatrix} e^{2x};$ b) $y = c_1 \begin{pmatrix} 1 \\ 1 \\ 1 \end{pmatrix} e^{2x} + c_2 \begin{pmatrix} 1 \\ -1 \\ 0 \end{pmatrix} e^{-x} + c_3 \begin{pmatrix} 1 \\ 0 \\ -1 \end{pmatrix} e^{-x};$

c) $y = c_1 \begin{pmatrix} 2 \\ -2 \\ 1 \end{pmatrix} e^x + c_2 \begin{pmatrix} 0 \\ 1 \\ 0 \end{pmatrix} e^{2x} + c_3 \begin{pmatrix} 0 \\ 0 \\ 1 \end{pmatrix} e^{-x}.$

52. $x = 2t + 2e^{-t}, \quad y = t + e^{-t}, \quad z = 1 + t.$

53. a) $(1-t) \begin{pmatrix} 1 \\ 1 \end{pmatrix};$ b) $\frac{1}{16} \begin{pmatrix} (8t^2 - 4t + 17)e^{3t} - e^{-t} \\ (8t^2 + 12t + 13)e^{3t} + 3e^{-t} \end{pmatrix};$ c) $e^{-t} \begin{pmatrix} \cos \sqrt{2}t - \sqrt{2} \operatorname{sen} \sqrt{2}t \\ \sqrt{2} \operatorname{sen} \sqrt{2}t + 2 \cos \sqrt{2}t \end{pmatrix};$

d) $\begin{pmatrix} t \\ 2t-1 \end{pmatrix}$ si $t \leq 2$, $\begin{pmatrix} -t + (8-2t)e^{t-2} \\ 1-2t + (10-2t)e^{t-2} \end{pmatrix}$ si $t \geq 2$.

54. $\Phi(x) = \begin{pmatrix} \cos x & 0 & \operatorname{sen} x & 0 \\ 0 & \cos x & 0 & -\operatorname{sen} x \\ -\operatorname{sen} x & 0 & \cos x & 0 \\ 0 & \operatorname{sen} x & 0 & \cos x \end{pmatrix}.$ Solución pedida del sistema inhomogéneo: $\begin{pmatrix} \cos x - 2x \\ 0 \\ x^2 - 2 - \operatorname{sen} x \\ 0 \end{pmatrix}.$

55. $x = 10 - 12e^{-t}, \quad y = -1 + 4e^{-t}, \quad z = 4 - 4e^{-t}.$

56.

$$\alpha \neq -1: e^{xA} = \frac{1}{\alpha + 1} \begin{pmatrix} \alpha e^x + e^{-\alpha x} & e^x - e^{-\alpha x} \\ \alpha(e^x - e^{-\alpha x}) & e^x + \alpha e^{-\alpha x} \end{pmatrix}; \quad \alpha = -1: e^{xA} = \begin{pmatrix} e^x(1-x) & xe^x \\ -xe^x & e^x(1+x) \end{pmatrix},$$