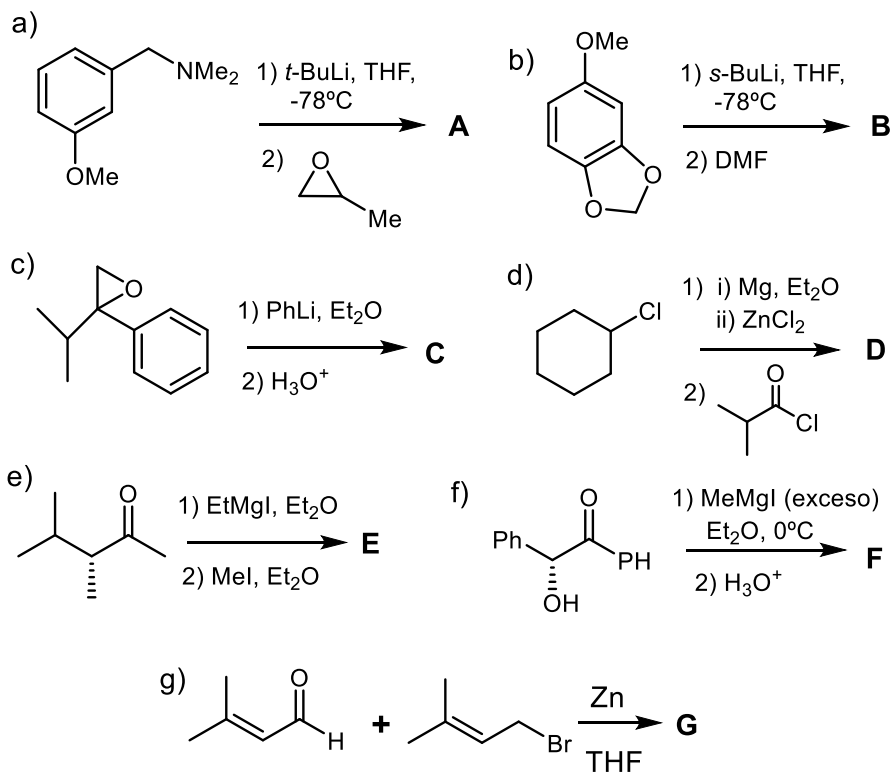
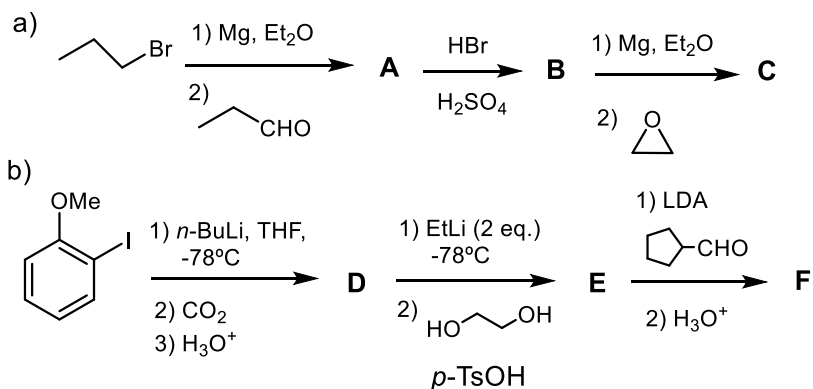


## TEMA 1. EJERCICIOS

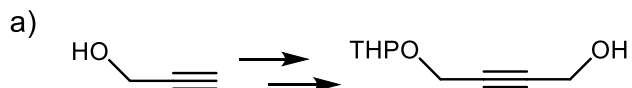
1- Determinar las estructuras de los A-G, especificando la estereoquímica donde proceda.



2- Completar las siguientes secuencias de reacciones.



3- Completar las siguientes transformaciones indicando los reactivos y condiciones de reacción necesarios, así como las estructuras de los compuestos intermedios.



**CLASES PARTICULARES, TUTORÍAS TÉCNICAS ONLINE  
LLAMA O ENVÍA WHATSAPP: 689 45 44 70**

---

**ONLINE PRIVATE LESSONS FOR SCIENCE STUDENTS  
CALL OR WHATSAPP:689 45 44 70**

Cartagena99