

Introducción a la Economía

Ejercicio práctico nº 5



1. ¿Cuáles son los postulados del modelo de competencia perfecta? ¿Podrías poner un ejemplo?

Muchos compradores y muchos vendedores en el mercado de forma que cada una de las empresas es demasiado pequeña para influir en el precio de mercado.

Bienes homogéneos.

Información perfecta.

Libre movilidad de los recursos productivos de forma que las empresas tienen libertad de salida y de entrada al mercado.

Aunque se trata de una construcción teórica que difícilmente puede encontrarse en la realidad, algunos mercados agrícolas en las primeras fases de producción podrían ser un ejemplo de un mercado de este tipo.

2. Explica el comportamiento “precio-aceptante” en un mercado competitivo.

Una vez que el mercado fija el precio, los agentes lo aceptan como un dato.

3. Elige un producto que sueles consumir (un alimento, por ejemplo) o que hayas comprado recientemente (un libro de economía o de ficción, un videojuego, etc.) o simplemente elige cualquier producto que quieras. Busca diferentes proveedores que vendan ese producto (Amazon, eBay, AliExpress, El Corte Inglés, un comercio local, etc.) y recaba información sobre los precios. Analiza las diferencias (si es que las hay) e intenta explicar el por qué de ellas.

Un ejemplo:

Proveedor	Precio, incluyendo gastos de envío (GBP)
Game	14,99
Amazon UK	15,00
Tesco	15,00
Asda	15,00
Base.com	16,99
Play.com	17,79
Savvi	17,95
The HUT	18,25
I want one of those	18,25
Hive.com	21,11

**CLASES PARTICULARES, TUTORÍAS TÉCNICAS ONLINE
LLAMA O ENVÍA WHATSAPP: 689 45 44 70**

**ONLINE PRIVATE LESSONS FOR SCIENCE STUDENTS
CALL OR WHATSAPP:689 45 44 70**

Cartagena99

- b) Normales, si el precio es igual al coste total medio.
- c) Pérdidas, si el precio es inferior al coste total medio.

¿De qué depende que una empresa cierre o siga produciendo?

La empresa con pérdidas seguirá produciendo si el coste variable medio es inferior al precio. Si el coste variable medio es superior al precio, la empresa deberá cerrar.

5. Supón que eres el gerente de una empresa relojera que produce en un mercado de competencia perfecta. Su coste de producción viene dado por $C = 100 + Q^2$, donde Q es el nivel de producción, C es el coste total (el coste marginal de producción es de $2Q$ y el coste fijo es 100 €). Si el precio de los relojes es de 60 € ¿cuántos debe producir para maximizar beneficios? ¿Cuál será el nivel de beneficios?

Los beneficios se maximizan cuando $CMg = IMg$. En competencia perfecta sabemos que $P = IMe = IMg$. Si el precio es 60 €, el IMg será 60. Si $CMg = 2Q$, como dice el enunciado del problema, simplemente, sustituyendo el valor del CMg y despejando Q obtenemos la cantidad maximizadora de beneficios:

$$P = CMg = 60 \text{ (I)}$$

$$CMg = 2Q \text{ (II)}$$

Igualando I y II

$$60 = 2Q ; Q = 60/2 = 30$$

La cantidad maximizadora de beneficios es 30.

Cálculo de los beneficios:

$$\pi = IT - CT$$

$$IT = P \cdot Q$$

Si:

$$P = 60$$

$$Q = 30$$

Entonces:

$$IT = 60 \cdot 30 = 1.800 \text{ (I)}$$

Cálculo del CT .

$$CT = C = 100 + Q^2$$

Si $Q = 30$

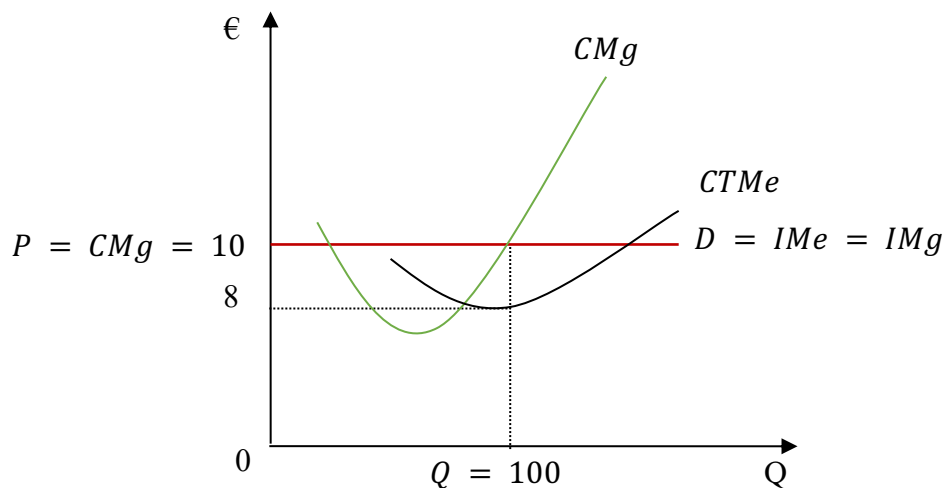
Entonces:

$$CT = 100 + 30^2 = 1.000 \text{ (II)}$$

**CLASES PARTICULARES, TUTORÍAS TÉCNICAS ONLINE
LLAMA O ENVÍA WHATSAPP: 689 45 44 70**

**ONLINE PRIVATE LESSONS FOR SCIENCE STUDENTS
CALL OR WHATSAPP:689 45 44 70**

Cartagena99



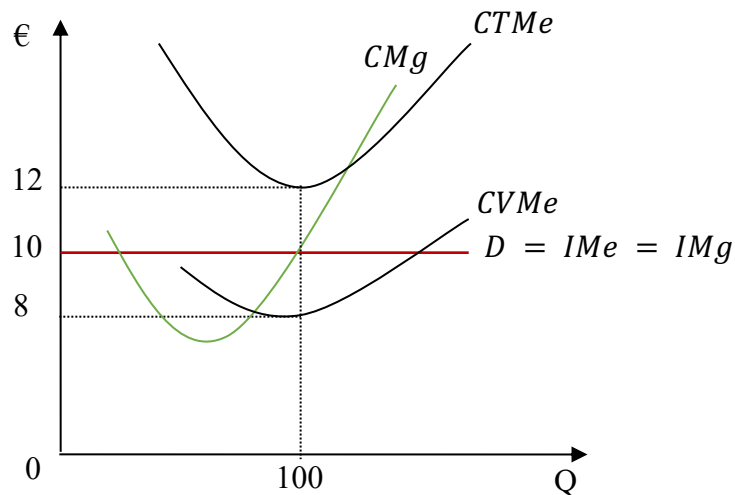
$$IT = P \cdot Q = 10 \times 100 = 1.000$$

$$CT = CMe \cdot Q = 8 \times 100 = 800$$

$$\pi = IT - CT = 1.000 - 800 = 200$$

Se trata de beneficios extraordinarios

7. El siguiente gráfico representa la situación de una empresa en competencia perfecta:



Se pide:

CLASES PARTICULARES, TUTORÍAS TÉCNICAS ONLINE
LLAMA O ENVÍA WHATSAPP: 689 45 44 70

ONLINE PRIVATE LESSONS FOR SCIENCE STUDENTS
CALL OR WHATSAPP:689 45 44 70

Cartagena99

b) Señalar si la empresa obtiene beneficios o pérdidas y en qué cantidad.

Como el coste total medio (12) es superior al precio (10) la empresa obtendrá pérdidas. Los beneficios o las pérdidas se calculan restando al ingreso total el coste total. El ingreso total es igual al número de unidades vendidas multiplicadas por el precio de venta; por su parte, el coste total se calcula multiplicando el coste total medio de producir el bien por el número de unidades producidas en el equilibrio. Es decir:

$$\begin{aligned}\text{Beneficios o pérdidas } (\Pi) &= IT - CT \\ IT &= P \cdot Q \\ CT &= CTMe \cdot Q \\ \Pi &= (P \cdot Q) - (CTMe \cdot Q) = Q \cdot (P - CTMe) \\ Q &= 100 \\ P &= 10 \\ CTMe &= 12\end{aligned}$$

Sustituyendo los valores:

$$\Pi = Q \cdot (P - CTMe) = 100 \cdot (10 - 12) = -200$$

c) En caso de que se obtengan beneficios, señalar de qué tipo son y en caso de que se incurra en pérdidas, señalar si la empresa debe seguir produciendo o si, por el contrario, debe cerrar. Explica tu respuesta.

Como el coste variable medio está por debajo del precio, para ese nivel de producción de 100, la empresa continuará produciendo para minimizar sus pérdidas. A un precio de 10 y una cantidad producida de 100 la empresa cubre sus costes variables y puede pagar parte de los costes fijos.

8. La curva de costes de una empresa que actúa en un mercado perfectamente competencia perfecta es $CT = 2Q^2 + 6Q + 8$ siendo Q la cantidad producida en toneladas.

a) Obtén el coste fijo y el coste variable de la empresa.

$$CT = 2Q^2 + 6Q + 8 = CF + CV$$

El coste fijo es aquel que no depende del nivel de producción. Por tanto: $CF = 8$

El coste variable es aquel que depende de la cantidad producida. Por tanto: $CV = 2Q^2 + 6Q$

The logo for 'Cartagena99' features the text 'Cartagena99' in a stylized, blue, serif font. The '99' is significantly larger and more prominent than the word 'Cartagena'. The text is set against a light blue background with a subtle gradient and a soft shadow effect.

**CLASES PARTICULARES, TUTORÍAS TÉCNICAS ONLINE
LLAMA O ENVÍA WHATSAPP: 689 45 44 70**

- - -

**ONLINE PRIVATE LESSONS FOR SCIENCE STUDENTS
CALL OR WHATSAPP:689 45 44 70**

c) Obtén la expresión de la curva de oferta.

La condición de máximo beneficio en competencia perfecta es $P = CMg$. Por lo tanto, la curva de oferta será:

$$\begin{aligned}P &= CMg \\CMg &= 4Q + 6 \\P &= 4Q + 6\end{aligned}$$

Presentando la ecuación en su forma habitual:

$$Q = \frac{1}{4}P - \frac{3}{2} = 0,25P - 1,5$$

d) Suponiendo de hay 10.000 empresas iguales obtén la expresión de la curva de oferta del mercado.

$$Q = (0,25P - 1,5) 10.000 = 2.500P - 15.000$$

e) Suponiendo que la expresión de la curva de demanda es $Q = 60.000 - 5000P$, calcula el precio y la cantidad de equilibrio en el mercado.

$$\begin{aligned}Q_d &= 60.000 - 5.000P \\Q_o &= 2.500P - 15.000\end{aligned}$$

Condición de equilibrio $Q_d = Q_o$

$$\begin{aligned}60.000 - 5000P &= 2.500P - 15.000 \\7.500P &= 75.000 \\P &= 10\end{aligned}$$

$$\begin{aligned}Q_d &= 60.000 - 5.000(10) = 10.000 \\Q_o &= 2.500(10) - 15.000 = 10.000\end{aligned}$$

f) Calcula la cantidad producida por cada empresa.

$$10.000 \text{ unidades} / 10.000 \text{ empresas} = 1 \text{ Tonelada cada empresa}$$

g) Calcula el beneficio que obtiene cada empresa.

$$\text{Beneficio } \Pi = IT - CT$$

The logo for 'Cartagena99' features the text 'Cartagena99' in a stylized, blue, serif font. The '99' is significantly larger and more prominent than the 'Cartagena' part. The text is set against a light blue background with a subtle gradient and a soft shadow effect.

**CLASES PARTICULARES, TUTORÍAS TÉCNICAS ONLINE
LLAMA O ENVÍA WHATSAPP: 689 45 44 70**

**ONLINE PRIVATE LESSONS FOR SCIENCE STUDENTS
CALL OR WHATSAPP:689 45 44 70**

$$B = IT - CT = 10 - 16 = -6$$

La empresa tiene unas pérdidas de 6.

h) Debido a la pérdida, ¿cerrará la empresa o continuará produciendo?

La empresa cerrará si el CV es mayor que el precio.

$$CV = 2Q^2 + 6Q$$

$$Q = 1$$

$$CV = 2(1)^2 + 6(1) = 8$$

Como $P = 10$, la empresa no cerrará ($P > CV$). Cubre todos los costes variables y parte de los fijos.

9. Una empresa competitiva tiene la siguiente función de costes totales: $CT = 2Q^2 + Q + 3$. Supón que el precio de venta es $P = 5$.

a) Calcula la cantidad que producirá la empresa.

$$CT = 2Q^2 + Q + 3$$

$$CMg = 4Q + 1$$

Condición de máximo beneficio: $P = CMg$

$$P = 5$$

$$CMg = 4Q + 1$$

$$5 = 4Q + 1$$

$$Q = 1$$

b) Obtén el beneficio que obtendrá la empresa.

$$B = IT - CT$$

$$IT = P \cdot Q = 5 \cdot 1 = 5$$

$$CT = 2Q^2 + Q + 3 = 2(1)^2 + 1 + 3 = 6$$

$$B = IT - CT = 5 - 6 = -1$$

10. Considera los siguientes datos de los costes totales de producción de una empresa:

Cantidad producida	0	1	2	3	4	5	6
Costes totales (€)	8	13	16	18	28	45	66



**CLASES PARTICULARES, TUTORÍAS TÉCNICAS ONLINE
LLAMA O ENVÍA WHATSAPP: 689 45 44 70**

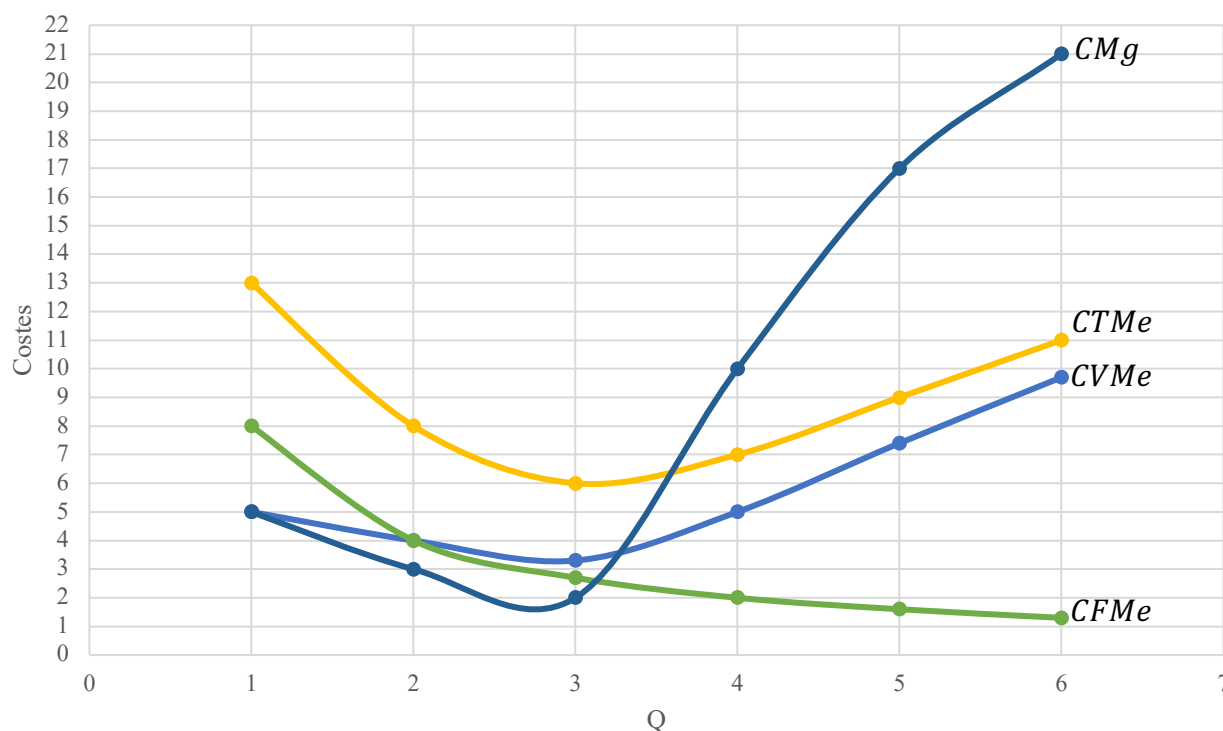
**ONLINE PRIVATE LESSONS FOR SCIENCE STUDENTS
CALL OR WHATSAPP:689 45 44 70**

producida. Finalmente, el coste marginal (CMg) se calcula dividiendo la variación que experimenta el CT al aumentar en una unidad la cantidad producida.

Los datos de la tabla serían los siguientes:

Cantidad Producida	0	1	2	3	4	5	6
Costes Totales	8	13	16	18	28	45	66
Coste Fijo Total	8	8	8	8	8	8	8
Coste Variable Total	0	5	8	10	20	37	58
Coste Total Medio		13	8	6	7	9	11
Coste Variable Medio		5	4	3,3	5	7,4	9,7
Coste Fijo Medio		8	4	2,7	2	1,6	1,3
Coste Marginal		5	3	2	10	17	21

Gráficamente:



Vemos que los CVMe alcanzan su mínimo cuando la producción es 3 unidades, punto en el que la productividad media del trabajo alcanza su máximo. En este nivel de producción la proporción entre factor fijo y factor variable es óptima. A partir de este punto el factor variable trabaja con menos unidades de factor fijo por lo que cada vez aumenta más el CVMe. Así, vemos que la curva de CVMe tiene forma de U.



**CLASES PARTICULARES, TUTORÍAS TÉCNICAS ONLINE
LLAMA O ENVÍA WHATSAPP: 689 45 44 70**

**ONLINE PRIVATE LESSONS FOR SCIENCE STUDENTS
CALL OR WHATSAPP:689 45 44 70**

En cuanto al CMg, debemos tener en cuenta que está relacionado con el comportamiento del Producto Marginal. El PMg, al principio crece, para después disminuir. Cuando el PMg, crece, el CMg decrece hasta que el PMg alcanza su máximo, punto en el que el CMg alcanza su mínimo. Es entonces cuando la empresa comienza a tener rendimientos marginales decrecientes, aumentando el CMg (a partir de la 3ª unidad de producción).

The logo for Cartagena99 features the text 'Cartagena99' in a stylized, blue, serif font. The text is set against a light blue, abstract background that resembles a map of the city of Cartagena. Below the text, there is a horizontal orange bar with a slight gradient.

**CLASES PARTICULARES, TUTORÍAS TÉCNICAS ONLINE
LLAMA O ENVÍA WHATSAPP: 689 45 44 70**

**ONLINE PRIVATE LESSONS FOR SCIENCE STUDENTS
CALL OR WHATSAPP:689 45 44 70**