

GRADO EN INGENIERÍA QUÍMICA

Fundamentos de Ingeniería Química

Hoja 4. Balances de Materia y Energía

- 1.- Calcular la variación de entalpía asociada a la transformación 1 kg de hielo a presión atmosférica y 253 K en vapor de agua sobrecalentado a 423 K y presión atmosférica.

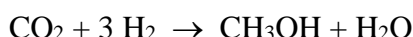
Datos:

Calor específico (kJ/kg.°C): H₂O_(s): 2,05; H₂O_(l): 4,18; H₂O_(v): 2,02

Calor latente del agua a 1 atm. (kJ/kg): fusión: 333; vaporización: 2.257

Sol.: 3.150 kJ/kg

- 2.- En una instalación industrial se obtiene metanol por conversión catalítica de CO₂ y H₂, según la reacción:



Los gases de salida del convertidor pasan a un condensador donde se retiene el metanol y el agua, mientras los gases residuales se recirculan al reactor, excepto una pequeña cantidad que se purga para evitar que aumente la concentración de inertes (N₂) en el sistema. La proporción de CO₂ y H₂ en la alimentación es la estequiométrica y el contenido de gases inertes es de 0,5 mol/100 mol de CO₂ + H₂. La conversión en el reactor es del 58%, siendo la concentración máxima admisible de inertes en los gases de entrada al mismo de 4,5 mol/100 mol de CO₂ + H₂.

Determinese:

- La proporción de gases purgados a la salida del condensador.
- El caudal y la composición de la mezcla gaseosa a la entrada del reactor.
- Determinese el caudal de agua de refrigeración que debe utilizarse en el condensador considerando que ésta se alimenta a 15 °C y sale a 45 °C y que los gases entran al equipo a 325°C y salen a 25°C a una presión de trabajo de 20 atm.

Datos:

Calores específicos medios (J/mol.°C): CO₂: 41,80; H₂: 28,42 ; N₂: 30,52; H₂O_(l): 75,24 ; H₂O_(v): 35,28; CH₃OH_(l): 89,60; CH₃OH_(v): 62,72.

Calor latente de vaporización H₂O a 20 atm.: 33.930 J/mol (T_{eq} = 213 °C).

Calor latente de vaporización del CH₃OH a 20 atm.: 24.480 J/mol (T_{eq} = 168 °C).

Sol.: a) 6,7%; b) 104,5 mol/h (CO₂: 23,9%; H₂: 71,8%; N₂: 4,3%); c) 14,99 kg/h agua

- 3.- Un procedimiento para obtener cianuro de hidrógeno consiste en tratar metano con amoníaco sobre un catalizador de platino a 1250°C. Los reactantes se alimentan al reactor a 400°C y la corriente de salida del mismo lo abandona a la temperatura de reacción, es decir, 1250°C. El gas efluente del reactor está constituido por: HCN = 23,5% ∴ NH₃ = 3,4% ∴ CH₄ = 2,6% ∴ H₂ = 70,5%. Calcúlese:

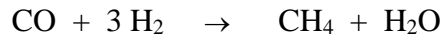
- La conversión, referida al reactante que se encuentra en defecto.
- La razón molar CH₄/NH₃ utilizada.

CLASES PARTICULARES, TUTORÍAS TÉCNICAS ONLINE
LLAMA O ENVÍA WHATSAPP: 689 45 44 70

ONLINE PRIVATE LESSONS FOR SCIENCE STUDENTS
CALL OR WHATSAPP:689 45 44 70

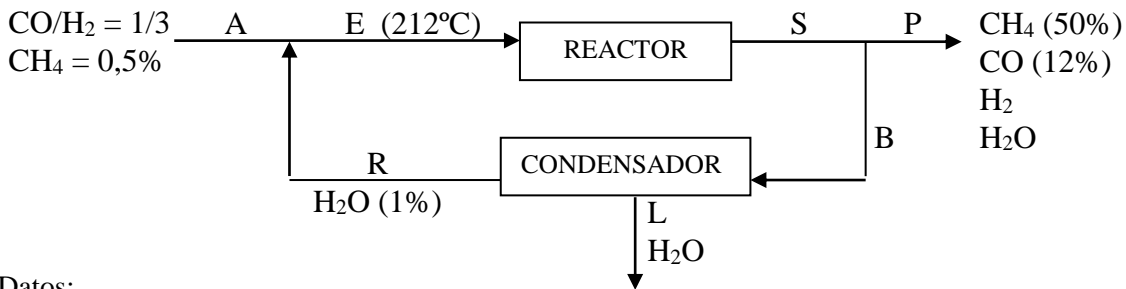
Cartagena99

- 4.- Se desea mejorar un gas de síntesis aumentando su contenido en metano mediante la reacción:



El esquema del proceso se muestra en la Figura. La alimentación fresca contiene CO y H₂, en relación molar 1/3, y 0,5% CH₄. El reactor opera adiabáticamente y la corriente gaseosa que abandona el mismo se divide en dos: una de producto (P), con un 50% CH₄ y un 12% CO, y otra (B) que pasa a través de un condensador para reducir su contenido en agua hasta el 1%, y se recircula al reactor. La corriente de alimentación fresca (A) tiene un caudal de 100 kmol/h. Calcúlese:

- El caudal de las corrientes P, L y R.
- La conversión en el reactor.
- La temperatura de los gases a la salida del reactor, si a la entrada del mismo es de 212°C.



Datos:


Calor de reacción a 25°C: - 93.571 kJ/kmol CH₄ (exotérmica)

Calores específicos medios (kJ/kmol °C): CO: 29,56; H₂: 29,6; CH₄: 50; H₂O_(v): 34,75; H₂O_(l): 75,24.

Calor latente de vaporización H₂O a 1 atm.: 40.630 kJ/kmol (T_{eq} = 100°C)

Sol.: a) P: 40,9 kmol; L: 19,2 kmol; R: 1876,7 kmol; b) 7,9%; c) 227,2°C

- 5.- Un proceso para la obtención de formaldehído consiste en hacer reaccionar, a presión atmosférica, metanol en fase vapor con aire, en presencia de un catalizador de plata. La reacción que tiene lugar es la siguiente:



El análisis de los gases en base seca a la salida del reactor es: 12,5% CH₃OH; 7,0% O₂; 18,8% CH₂O. La alimentación del metanol y el aire al reactor se realiza a 75°C, y los gases salen a una temperatura superior a 100°C. Calcular:

- La relación molar metanol/aire en la mezcla reaccionante.
- La conversión conseguida en el reactor.
- La temperatura de los gases de salida suponiendo que el 80% del calor de reacción en condiciones estándar se elimina del sistema.

Datos:

Calor de reacción a 25°C (kJ/kmol): - 163.100 (exotérmica)

Calores específicos medios (kJ/kmol.K):

CH₃OH_(l): 82,6; CH₃OH_(v): 42,9; CH₂O: 34,3; O₂: 29,1; H₂O_(v): 33,5; H₂O_(l): 75,4; N₂: 29,0

Calor latente de vaporización del CH₃OH a 1 atm. (kJ/kmol): 35.300 (T_{eq} = 64,9°C)

Calor latente de vaporización del H₂O: 40.630 (T_{eq} = 100°C)

Sol.: a) 40 %; b) 60 %; c) 199°C

Cartagena99

CLASES PARTICULARES, TUTORÍAS TÉCNICAS ONLINE
LLAMA O ENVÍA WHATSAPP: 689 45 44 70

ONLINE PRIVATE LESSONS FOR SCIENCE STUDENTS
CALL OR WHATSAPP:689 45 44 70

Sol.: 26.410 kg/h por cada 100 kmol/h de CH₄ alimentado.

7.- Se desea calentar una corriente acuosa de 100 m³/h desde 15 a 29°C. Para ello, se utiliza el calor desprendido en una caldera en la que se quema metano a presión atmosférica con un exceso de aire del 300% respecto del estequiométrico. A la caldera se introduce el metano a 100°C y el aire a 25°C, mientras que los gases de combustión se encuentran a 450°C. Calcular:

- La composición de los gases de combustión en base seca.
- El caudal de metano, en m³N/h, necesario para calentar el agua de la piscina.

Datos:

Calores específicos (C_p) medios en el intervalo de temperatura (kJ/kmol.°C):

CH₄: 35,68 ∴ CO₂: 37,15 ∴ H₂: 28,84 ∴ O₂: 29,39 ∴ N₂: 29,05 ∴ H₂O(L): 75,24 ∴ H₂O(V): 35,28

Entalpía de combustión a 25°C (ΔH_c⁰, kJ/kmol): CH₄: -890.350

Calor latente de vaporización del agua (kcal/kg): 540 (1 atm, T_{eq} = 100 °C)

Sol.: a) CO₂ : 2,6% ; H₂O : 5,1% ; O₂ : 15,4% ; N₂ : 77,0% **b)** 418 m³N/h

8.- En el horno de una caldera de vapor se queman completamente 100 kmol/h de gas natural (91% CH₄, 5% C₂H₆, 3% C₃H₈ y 1% CO₂) con aire en exceso. El gas natural se alimenta a la caldera a 25°C mientras que el caudal de aire se introduce a la misma a 100°C. El calor generado en el proceso se aprovecha para producir vapor saturado a 80 atm a partir de una corriente de agua que se alimenta a 25 °C. En estas condiciones, determinar:

- El caudal de calor desprendido de la caldera si se obtienen 1440 kg/h de vapor saturado.
- El exceso de aire que debe emplearse si la temperatura de los gases de combustión que abandonan la caldera no puede superar los 1000 °C.

Datos:

Calores específicos (C_p) medios en el intervalo de temperatura (kJ/kmol.°C):

CH₄: 35,68 ∴ C₂H₆: 52,78 ∴ C₃H₈: 74,29 ∴ CO₂: 37,15 ∴ N₂: 29,06 ∴ O₂: 29,38 ∴ H₂O(L): 75,24 ∴

H₂O(V): 35,28

Entalpías de combustión a 25°C (ΔH_c⁰, kJ/kmol): CH₄: -890.350 ∴ C₂H₆: -1.559.870 ∴ C₃H₈: - 2.220.140

Calor latente de vaporización del agua (kJ/kmol): 40.630 (1 atm; T_{eq}: 100°C)

Calor latente de vaporización del agua (kJ/kmol): 25.582 (80 atm; T_{eq}: 295°C)

Sol.: a) 3671744 kJ/h **b)** 190 %

The logo for Cartagena99 features the word 'Cartagena' in a stylized, blue, serif font with a slight shadow, followed by '99' in a larger, bold, blue font. The text is set against a light blue background with a subtle gradient and a white shadow effect.

CLASES PARTICULARES, TUTORÍAS TÉCNICAS ONLINE
LLAMA O ENVÍA WHATSAPP: 689 45 44 70

- - -

ONLINE PRIVATE LESSONS FOR SCIENCE STUDENTS
CALL OR WHATSAPP:689 45 44 70