

**EXAMEN DE
MÉTODOS MATEMÁTICOS PARA ESTADÍSTICA I
9-Febrero-2017**

1. [1pto] Contesta las siguientes cuestiones sobre series numéricas:

a) Di el carácter (convergente, divergente u oscilante) de $\sum_{n=1}^{\infty} ne^{-n^2}$

b) Halla la suma de $\sum_{n=1}^{\infty} \frac{1}{3^n \cdot 2^{n+1}}$. ¿Por qué sabemos, antes de calcularla, que esa suma va a ser finita?

2. [1pto] Dadas las siguientes funciones definidas a trozos, escribe $(f \circ g)(x) \forall x \in \mathbb{R}$:

$$f(x) = \begin{cases} x + 1, & x \leq -1 \\ 2x, & x > -1 \end{cases} \quad g(x) = \begin{cases} x - 4, & x > 2 \\ 3x, & x \leq 2 \end{cases}$$

3. Para la función $f(x) = x + \frac{1}{x}$,

a) [0.5ptos] Di cuál es su dominio

b) [1pto] Encuentra todas sus asíntotas

c) [0.5ptos] Estudia su concavidad

d) [0.5ptos] Haz un esbozo de su gráfica

4. [1pto] Calcula $\lim_{x \rightarrow 0^+} \left(\frac{1}{x}\right)^{\sin(x)}$

5. [1pto] ¿Será cierto que $e^x - 7x = -2$ para algún $x \in [1, 4]$? Si existe un x así, ¿será único? Usa algún teorema para fundamentar tu respuesta

6. [1pto] Se ha observado que, en una carretera de salida de una gran ciudad, la velocidad de los coches entre las 2 y las 6 horas de la tarde viene dada por $v(t) = t^3 - 15t^2 + 72t + 8$. ¿A qué hora circulan los coches con mayor velocidad? ¿Y con menor?

7. Resuelve las siguientes cuestiones relacionadas con integrales:

a) [1pto] $\int x^2 \ln(x) dx$

b) [0.5ptos] Halla el valor de $k > 0$ para que $f(x) = k^2 e^{-kx}$ sea función de densidad; es decir, para que $\int_0^{\infty} f(x) dx = 1$

c) [1pto] Calcula el área de la región limitada por la parábola $y = x^2 + 1$, la recta $y = \frac{-x}{2} + \frac{5}{2}$, y los ejes OX^+ y OY^+

RAZONA TUS RESPUESTAS. NO DES RESULTADOS EN FORMA DECIMAL

$$\textcircled{1} \text{ a) } \sum_{n=1}^{\infty} n e^{-n^2}$$

$$\lim_n \frac{a_{n+1}}{a_n} = \lim_n \frac{(n+1) e^{-(n+1)^2}}{n e^{-n^2}} = \lim_n \frac{(n+1) e^{-n^2-2n-1}}{n e^{-n^2}} =$$

$$= \lim_n \frac{(n+1) e^{-2n-1}}{n} = \lim_n \left(\frac{n+1}{n} \right) \left(\frac{1}{e} \right) \left(\frac{1}{e^{2n}} \right) = 0 < 1$$

$$\text{b) } \sum_{n=1}^{\infty} \frac{1}{3^n 2^{n+1}} = \frac{1}{2} \sum_{n=1}^{\infty} \frac{1}{6^n} = \frac{1}{2} \left(\frac{1/6}{1-1/6} \right) \overset{\text{CONVERGE}}{=} \frac{1}{2} \frac{1/6}{5/6} =$$

$$\underbrace{\text{Serie geom. de } r = \frac{1}{6} < 1}_{\text{CONVERGE}} = \frac{1}{2} \cdot \frac{1}{5} = \boxed{\frac{1}{10}}$$

$$\textcircled{2} \quad f(x) = \begin{cases} x+1 & x \leq -1 \\ 2x & x > -1 \end{cases} \quad g(x) = \begin{cases} x-4 & x > 2 \\ 3x & x \leq 2 \end{cases}$$

$$(f \circ g)(x) = f(g(x)) = \begin{cases} g(x)+1 & g(x) \leq -1 \\ 2g(x) & g(x) > -1 \end{cases} = \begin{cases} x-4+1, & x-4 \leq -1 \wedge x > 2 \\ 3x+1, & 3x \leq -1 \wedge x \leq 2 \\ 2(x-4), & x-4 > -1 \wedge x > 2 \\ 2(3x), & 3x > -1 \wedge x \leq 2 \end{cases}$$

$$(f \circ g)(x) = \begin{cases} x-3, & x \leq 3 \wedge x > 2 \\ 3x+1, & x \leq -\frac{1}{3} \wedge x \leq 2 \\ 2x-8, & x > 3 \wedge x > 2 \\ 6x, & x > -\frac{1}{3} \wedge x \leq 2 \end{cases}$$

$$\boxed{(f \circ g)(x) = \begin{cases} 3x+1 & x \leq -\frac{1}{3} \\ 6x & -\frac{1}{3} < x \leq 2 \\ x-3 & 2 < x \leq 3 \\ 2x-8 & 3 < x \end{cases}}$$

③ $f(x) = x + \frac{1}{x}$

a) $\text{Dom}(f) = \mathbb{R} - \{0\}$

b) $\lim_{x \rightarrow 0^+} \left(x + \frac{1}{x}\right) = +\infty$ \wedge $\lim_{x \rightarrow 0^-} \left(x + \frac{1}{x}\right) = -\infty$

$x=0$ asíntota vertical

$m = \lim_{x \rightarrow \infty} \frac{\left(x + \frac{1}{x}\right)}{x} = \lim_{x \rightarrow \infty} \left(1 + \frac{1}{x^2}\right) = 1$ $m=1$

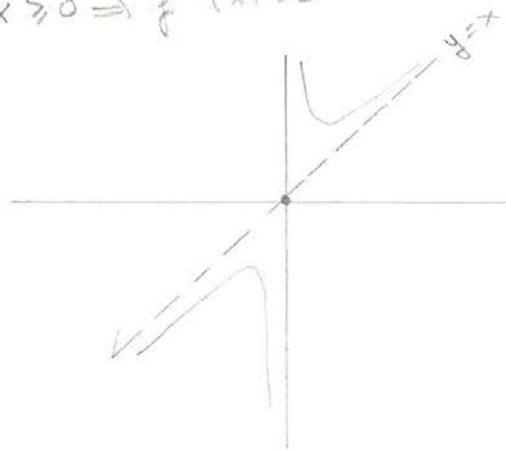
$m = \lim_{x \rightarrow -\infty} \frac{\left(x + \frac{1}{x}\right)}{x} = \lim_{x \rightarrow -\infty} \left(1 + \frac{1}{x^2}\right) = 1$ $m=1$

$n = \lim_{x \rightarrow \pm\infty} \left(\left(x + \frac{1}{x}\right) - x\right) = \lim_{x \rightarrow \pm\infty} \frac{1}{x} = 0$

Asíntota oblicua: $y = x$

c) $f'(x) = 1 - \frac{1}{x^2}$ \wedge $f''(x) = \frac{2x}{x^4} = \frac{2}{x^3}$

$x \leq 0 \Rightarrow f''(x) < 0$ CONCAVIDAD HACIA ABAJO
 $x \geq 0 \Rightarrow f''(x) > 0$ " ARRIBA



$$(4) \lim_{x \rightarrow 0^+} \left(\frac{1}{x}\right)^{\sin x} = e \Rightarrow \lim_{x \rightarrow 0^+} \ln \left[\left(\frac{1}{x}\right)^{\sin x} \right] = \ln e$$

$$\lim_{x \rightarrow 0^+} \left(\sin x \cdot \ln \left(\frac{1}{x}\right) \right) \stackrel{0 \cdot \infty}{=} \lim_{x \rightarrow 0^+} \frac{\ln \frac{1}{x}}{\frac{1}{\sin x}} \stackrel{L'H}{=} \lim_{x \rightarrow 0^+} \frac{-\frac{1}{x^2}}{\frac{-\cos x}{\sin^2 x}} =$$

$$= \lim_{x \rightarrow 0^+} \frac{-(\sin^2 x) \left(\frac{1}{x^2}\right)}{-(\cos x) \left(\frac{1}{x}\right)} = \lim_{x \rightarrow 0^+} \frac{(\sin^2 x) \frac{1}{x}}{\cos x} = \lim_{x \rightarrow 0^+} \frac{\sin^2 x}{x \cos x} \stackrel{L'H}{=} \%$$

$$= \lim_{x \rightarrow 0^+} \frac{2(\sin x)(\cos x)}{\cos x - x \sin x} = \frac{0}{1} = 0, \text{ luego } \ln e = 0 \Rightarrow e = e^0 = \boxed{1}$$


$$(5) \text{ ¿ } f(x) = e^x - 7x + 2 = 0 / \exists x \in [1, 4] ?$$

$$f(1) = e - 7 + 2 = e - 5 < 0$$

$$f(4) = e^4 - 28 + 2 = 54,598 - 26 > 0 \quad (f \text{ es continua en } [1, 4])$$

Por el Teor. de Bolzano $\exists x_0 \in (1, 4)$ t. q. $f(x_0) = 0$

$$\text{es decir: } \boxed{e^{x_0} - 7x_0 = -2}$$

$$f'(x) = e^x - 7 \quad \text{y} \quad f''(x) = e^x \quad \left. \begin{array}{l} e^x = 7 \Rightarrow x = \ln 7 \\ f''(x) > 0 \text{ conc. hacia arriba} \\ \text{es ÚNICO} \end{array} \right\}$$


$$(6) v'(t) = 3t^2 - 30t + 72 = 0 \Rightarrow t^2 - 10t + 24 = 0$$

$$t = \frac{10 \pm \sqrt{100 - 96}}{2} = \frac{10 \pm 2}{2} = \begin{matrix} 6 \\ 4 \end{matrix}$$

$$v''(t) = 6t - 30 \quad v''(6) = 6 > 0 \text{ hay MÍN.}$$

$$v''(4) = -6 < 0 \text{ hay MÁX.}$$

A las 6h circulan con menor velocidad

A las 4h " " con más " "

$$(7) a) \int x^2 \ln x \, dx = \frac{x^3}{3} \ln x - \int \frac{x^2}{3} dx =$$

$$u = \ln x \Rightarrow u' = \frac{1}{x}$$

$$v' = x^2 \Rightarrow v = \frac{x^3}{3}$$

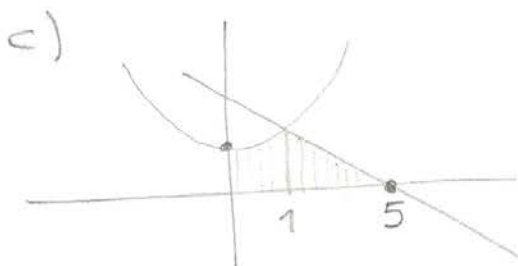
$$= \frac{x^3}{3} \ln x - \frac{1}{3} \frac{x^3}{3} + C = \frac{x^3}{3} \ln x - \frac{x^3}{9} + C$$

$$b) \int_0^{\infty} k^2 e^{-kx} dx = \lim_{m \rightarrow \infty} \int_0^m k^2 e^{-kx} dx =$$

$$= \lim_{m \rightarrow \infty} \left(-k \int_0^m -k e^{-kx} dx \right) = -k \cdot \lim_{m \rightarrow \infty} \left(e^{-kx} \right)_0^m =$$

$$= -k \lim_{m \rightarrow \infty} (e^{-km} - 1) = -k \lim_{m \rightarrow \infty} \left(\frac{1}{e^{km}} - 1 \right) = k$$

luego: $\boxed{k=1}$



$$x^2 + 1 = \frac{-x}{2} + \frac{5}{2}$$

$$2x^2 + 2 = -x + 5$$

$$2x^2 + x - 3 = 0$$

$$x = \frac{-1 \pm \sqrt{1+24}}{4} = \frac{-1 \pm 5}{4} < \begin{matrix} 1 \\ -3/2 \end{matrix}$$

$$\text{Área} = \int_0^1 (x^2 + 1) dx + \int_1^5 \left(\frac{-x}{2} + \frac{5}{2} \right) dx = \left(\frac{x^3}{3} + x \right)_0^1 + \frac{1}{2} \left(\frac{-x^2}{2} + 5x \right)_1^5 =$$

$$= \frac{1}{3} + 1 + \frac{1}{2} \left(\frac{-25}{2} + 25 + \frac{1}{2} - 5 \right) = \frac{4}{3} + \frac{1}{2} \left(\frac{-25+50+1-10}{2} \right) =$$

$$= \frac{4}{3} + \frac{1}{4} \cdot 16 = \frac{4}{3} + 4 = \boxed{\frac{16}{3}}$$